



قدم به قدم، همراه دانشجو...

WWW.GhadamYar.Com

جامع ترین و به روزترین پرتال دانشجویی کشور (پرتال دانش)
با ارائه خدمات رایگان، تحصیلی، آموزشی، رفاهی، شغلی و...
برای دانشجویان

- (۱) راهنمای ارتقاء تحصیلی. (کاردانی به کارشناسی، کارشناسی به ارشد و ارشد به دکتری)
- (۲) ارائه سوالات کنکور مقاطع مختلف سالهای گذشته، همراه پاسخ، به صورت رایگان
- (۳) معرفی روش های مقاله و پایان نامه نویسی و ارائه پکیج های آموزشی مربوطه
- (۴) معرفی منابع و کتب مرتبط با کنکورهای تحصیلی (کاردانی تا دکتری)
- (۵) معرفی آموزشگاه ها و مراکز مشاوره تحصیلی معتبر
- (۶) ارائه جزوات و منابع رایگان مرتبط با رشته های تحصیلی
- (۷) راهنمای آزمون های حقوقی به همراه دفترچه سوالات سالهای گذشته (رایگان)
- (۸) راهنمای آزمون های نظام مهندسی به همراه دفترچه سوالات سالهای گذشته (رایگان)
- (۹) آخرین اخبار دانشجویی، در همه مقاطع، از خبرگزاری های پربازدید
- (۱۰) معرفی مراکز ورزشی، تفریحی و فروشگاه های دارای تخفیف دانشجویی
- (۱۱) معرفی همایش ها، کنفرانس ها و نمایشگاه های ویژه دانشجویی
- (۱۲) ارائه اطلاعات مربوط به بورسیه و تحصیل در خارج و معرفی شرکت های معتبر مربوطه
- (۱۳) معرفی مسائل و قوانین مربوط به سربازی، معافیت تحصیلی و امریه
- (۱۴) ارائه خدمات خاص ویژه دانشجویان خارجی
- (۱۵) معرفی انواع بیمه های دانشجویی دارای تخفیف
- (۱۶) صفحه ویژه نقل و انتقالات دانشجویی
- (۱۷) صفحه ویژه ارائه شغل های پاره وقت، اخبار استخدامی
- (۱۸) معرفی خوابگاه های دانشجویی معتبر
- (۱۹) دانلود رایگان نرم افزار و اپلیکیشن های تخصصی و...
- (۲۰) ارائه راهکارهای کارآفرینی، استارت آپ و...
- (۲۱) معرفی مراکز تایپ، ترجمه، پرینت، صحافی و ... به صورت آنلاین
- (۲۲) راهنمای خرید آنلاین ارزی و معرفی شرکت های مطرح
- (۲۳)



WWW.GhadamYar.Ir

WWW.PortaleDanesh.com

WWW.GhadamYar.Org

۰۹۱۲ ۳۰ ۹۰ ۱۰۸

باما همراه باشید...


۰۹۱۲ ۰۹ ۰۳ ۸۰۱

www.GhadamYar.com

کد کنترل

701

A



701A



«اگر دانشگاه اصلاح شود مملکت اصلاح می‌شود.»
امام خمینی (ره)

صبح جمعه

۹۷/۱۲/۳

دفترچه شماره (۱)

جمهوری اسلامی ایران
وزارت علوم، تحقیقات و فناوری
سازمان سنجش آموزش کشور

آزمون ورودی دوره دکتری (نیمه‌متمرکز) - سال ۱۳۹۸

رشته مهندسی نقشه‌برداری - فتوگرامتری - کد (۲۳۱۸)

مدت پاسخ‌گویی: ۱۵۰ دقیقه

تعداد سؤال: ۴۵

عنوان مواد امتحانی، تعداد و شماره سؤالات

ردیف	مواد امتحانی	تعداد سؤال	از شماره	تا شماره
۱	مجموعه دروس تخصصی: فتوگرامتری - ژئودزی - فتوگرامتری رقومی - تئوری تقریب و مدل‌سازی رقومی زمین	۴۵	۱	۴۵

استفاده از ماشین حساب مجاز نیست.

این آزمون نمره منفی دارد.

حق چاپ، تکثیر و انتشار سؤالات به هر روش (الکترونیکی و...) پس از برگزاری آزمون، برای تمامی اشخاص حقیقی و حقوقی تنها با مجوز این سازمان مجاز می‌باشد و با متخلفین برابر مقررات رفتار می‌شود.

۱۳۹۸

* داوطلب گرامی، عدم درج مشخصات و امضا در مندرجات جدول ذیل، به منزله عدم حضور شما در جلسه آزمون است.

اینجانب با شماره داوطلبی در جلسه این آزمون شرکت می‌نمایم.

امضا:

- ۱- دوربینی روی بازوی رباتی نصب شده و ربات در امتداد محور اپتیکی دوربین حرکت کرده و تصویربرداری می‌کند. خطوط اپی پلار در تصاویر متوالی از چه الگویی تبعیت می‌کند؟ (خطوط اپی پلار از تقاطع صفحه اپی پلار با تصاویر ایجاد می‌گردد.)



- ۲- در شکل یک بلوک فتوگرامتری شامل هفت مدل نشان داده شده است. در مثلث بندی به روش دسته اشعه، اگر نقاط کنترل ثابت در نظر گرفته شوند، تعداد معادلات مشاهدات و مجهولات به ترتیب کدام است؟

					۱) ۱۱۶ ، ۱۴۵
					۲) ۱۱۷ ، ۱۲۹
					۳) ۱۱۷ ، ۱۴۷
					۴) ۱۲۹ ، ۱۵۳

نقاط کنترل مسطحاتی
 نقاط گرهی
 نقاط کنترل ارتفاعی

- ۳- در صورتی که از دو چند جمله‌ای به صورت $dX = f(X, Y)$ و $dY = g(X, Y)$ جهت مدل سازی خطای نقاط پس از انتقال از سیستم مختصات تصویر به سیستم مختصات زمین استفاده شود بهترین انتخاب برای Y و X در فرایند تشکیل چند جمله‌ای کدام است؟

- ۱) مختصات نقاط در سیستم مختصات زمینی که به صورت محاسباتی براساس معادلات کانفرمال به دست آمده‌اند.
 ۲) مختصات نقاط در سیستم مختصات زمینی که از طریق اندازه گیری به دست آمده است.
 ۳) مختصات نقاط در سیستم مختصات فتوگرامتریک
 ۴) مختصات عکسی نقاط

- ۴- در مثلث بندی به روش نوار پیوسته، قبل از انجام عملیات سرشکنی خطا در طول نوار، از چه معادله‌ای برای انتقال مختصات مثلث بندی نقاط به سیستم مختصات نوار پرواز استفاده می‌شود؟

- ۱) افاین ۲) پروژکتیو ۳) کانفرمال ۴) چندجمله‌ای ۱۱ پارامتری

۵- کدام عبارت صحیح است؟

- (۱) برای ارتفاع پرواز معین تصویر قائم دارای بیشترین پوشش طولی می باشد.
 (۲) برای ارتفاع پرواز معین تصویر مایل دارای بیشترین پوشش طولی می باشد.
 (۳) برای ارتفاع پرواز معین، مقیاس نقاط مختلف روی عکس قائم یکسان می باشد.
 (۴) در عکس مایل از یک منطقه مسطح، مقیاس برای نقاط واقع بر خط عمود بر خط بیشینه شیب برابر است.
- ۶- برای تأمین تصاویر مورد نیاز در یک پروژه فتوگرامتری، از دوربینی با فاصله کانونی ثابت از ارتفاع ثابتی نسبت به سطح زمین تصویربرداری می گردد. در صورتی که با حفظ شرایط پرواز، f-stop دوربین دو برابر شود، کشیدگی تصویر ناشی از حرکت هواپیما چه تغییری می کند؟

- (۱) یک چهارم می شود. (۲) یک دوم می شود. (۳) دو برابر می شود. (۴) چهار برابر می شود.

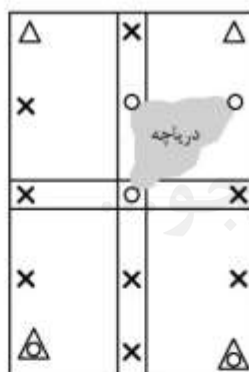
۷- در کدام یک از موارد زیر نمی توان از قضیه نسبت های توافقی استفاده نمود؟

- (۱) تصویربرداری به صورت کاملاً قائم صورت گرفته باشد. (۲) عوارض موجود در منطقه دارای اختلاف ارتفاع باشند.
 (۳) تصویربرداری به صورت مایل انجام شده باشد. (۴) زاویه تیلت تصویر زیاد باشد.

۸- در صورتی که منطقه تصویربرداری مسطح باشد، پارالاکس نقاط تصویر وابسته به کدام پارامتر است؟

- (۱) ارتفاع پرواز (۲) ارتفاع نقاط
 (۳) ارتفاع متوسط منطقه (۴) درصد پوشش طولی تصاویر

۹- در شکل زیر یک بلوک فتوگرامتری متشکل از دو نوار که هر یک شامل دو مدل می باشد، نشان داده شده است. اگر هدف مثلث بندی به روش MV باشد، با فرض ثابت بودن نقاط کنترل، تعداد معادلات مشاهدات و مجهولات به ترتیب کدام است؟



- △ نقاط کنترل مسطحانی
 △ نقاط کنترل کامل
 ○ نقاط کنترل ارتفاعی
 × نقاط گرهی و Pass

- (۱) ۶۰ و ۷۲
 (۲) ۶۴ و ۸۶
 (۳) ۶۶ و ۸۴
 (۴) ۶۶ و ۸۶

۱۰- فرض کنید هدف انجام ترفیع فضایی (Space Resection) یک عکس باشد. چنانچه پارامترهای توجیه خارجی نیز به عنوان شبه مشاهده وارد عملیات سرشکنی شوند، با فرض در اختیار داشتن ۲۰ نقطه کنترل زمینی، درجه آزادی سیستم حل معادلات کمترین مربعات چقدر است؟

- (۱) ۶۰ (۲) ۴۰ (۳) ۳۰ (۴) ۱۵

۱۱- بنا به قانون تجربی کائولا (Kaula) دامنه مؤلفه های هارمونیک پروفیل های ژئوئید در نقاط مختلف دنیا و در

جهات مختلف، طبق رابطه $A_n = \frac{R}{n^2 \times 10^5}$ قابل تخمین است. اگر شعاع متوسط زمین $R = 6400$ کیلومتر در

نظر گرفته شود، دامنه مؤلفه های با طول موج ۴۰۰۰ کیلومتر تقریباً چند سانتی متر است؟ (محیط زمین را ۴۰۰۰۰ کیلومتر فرض کنید).

- (۱) ۶/۴ (۲) ۶۴ (۳) ۳۲۰ (۴) ۳۲۰۰

۱۲- ناحیه اطمینان دو بعدی استاندارد مختصات مسطحاتی یک نقطه در شبکه‌های ژئودتیک، یک بیضی است. درصد احتمال متناظر با این بیضی چقدر است؟

- (۱) ۳۹ (۲) ۵۰ (۳) ۶۸٫۳ (۴) ۹۵

۱۳- اختلاف طول مقطع قائم و خم ژئودزی (ژئودزیک) بر روی یک بیضوی دورانی که به بهترین نحو بر ژئوئید برازنده شده است، در ۶۰۰ کیلومتری از چه مقداری (برحسب متر) کمتر است؟

- (۱) ۰٫۷۴ (۲) ۰٫۷۴ (۳) $۰٫۷۴ \times ۱۰^{-۲}$ (۴) $۰٫۷۴ \times ۱۰^{-۵}$

۱۴- کمیت عرض ایزومتری در مبحث سیستم‌های تصویر که دیفرانسیل آن به صورت $dq = \frac{M}{N} \frac{d\phi}{\cos \phi}$ تعریف می‌شود، چه نقشی در فرایند تبدیل مختصات ژئودتیک (λ, ϕ) به مختصات کارتزین در صفحه نقشه ایفا می‌کند؟

$(M$ و N به ترتیب شعاع‌های نصف‌النهار و مقطع قائم اولیه هستند.)

(۱) عرض ایزومتری مؤلفه شمالی - جنوبی مختصات کارتزین نقطه بر روی صفحه نقشه است.

(۲) مجموع مربعات اختلاف عرض ایزومتری و طول ژئودتیک دو نقطه، مربع فاصله آن دو نقطه خواهد بود.

(۳) انتخاب عرض ایزومتری به عنوان واسطه، محاسبات تبدیل از بیضوی به صفحه نقشه را راحت‌تر می‌کند.

(۴) تبدیل عرض ژئودتیک به عرض ایزومتری، شرط متشابه بودن سیستم‌های تصویر را برآورده می‌کند.

۱۵- در گرانی‌سنجی مطلق با روش سقوط آزاد، مهم‌ترین مسائل برای رسیدن به دقت میکروگال چیست؟

(۱) زمان‌سنجی دقیق، تعیین دقیق محل جسم در حال سقوط، تعداد تکرارها، پایداری بستر محل اندازه‌گیری، ایجاد محیط خلاء در محفظه سقوط

(۲) ایجاد محیط خلاء در محفظه سقوط، زمان‌سنجی دقیق، تعداد تکرارها، تعیین دقیق محل جسم در حال سقوط، عرض جغرافیایی محل اندازه‌گیری

(۳) تعداد تکرارها، پایداری محل اندازه‌گیری، عرض جغرافیایی محل اندازه‌گیری، ایجاد محیط خلاء در محفظه سقوط، ارتفاع نقطه اندازه‌گیری

(۴) پایداری بستر محل اندازه‌گیری، زمان‌سنجی دقیق، تعیین دقیق محل جسم در حال سقوط، عرض جغرافیایی محل اندازه‌گیری، ارتفاع نقطه اندازه‌گیری

۱۶- چرا امروزه کمیت نوسان جاذبه (δg) در گرانی‌سنجی جای کمیت انامولی جاذبه (Δg) را گرفته است؟

(۱) چون نوسان جاذبه دقیق‌تر از انامولی جاذبه است.

(۲) چون تعیین ژئوئید با نوسان جاذبه آسان‌تر از تعیین ژئوئید با انامولی جاذبه است.

(۳) چون نوسان جاذبه وابستگی کمتری به ارتفاع نقطه اندازه‌گیری نسبت به انامولی جاذبه دارد.

(۴) چون اندازه‌گیری ارتفاع ژئودتیک با GPS کم هزینه‌تر از اندازه‌گیری ارتفاع ارتومتری با ترازبایی دقیق است.

۱۷- خطای اتفاقی گرانی‌سنجی در یک نقطه را ± ۱۰ میکروگال در نظر بگیرید. با فرض خطای ± ۱ متر در تعیین ارتفاع، تأثیر خطای ارتفاع‌سنجی بر روی انامولی هوای آزاد، چند برابر تأثیر خطای گرانی‌سنجی است؟

(یادآوری: گرادیان هوای آزاد $۰٫۳۰۸ \pm$ میلی‌گال بر متر است.)

- (۱) حدود نصف (۲) بیش از ۲ برابر (۳) حدود ۶ برابر (۴) بیش از ۳۰ برابر

۱۸- امروزه اگر در اندازه‌گیری ارتفاع‌سنجی راداری (Satellite altimetry) تصحیح جزر و مد اعمال شده باشد، مهم‌ترین خطا برای رسیدن به ارتفاع ژئوئید در دریاها کدام است؟

(۱) ارتفاع لحظه‌ای آب دریا (۲) توپوگرافی سطح دریا

(۳) شکست تروپوسفری (۴) خطای مداری

- ۱۹- از لحاظ نظری، داشتن مختصات ژئوسنتریک حداقل چند نقطه برای تعیین مختصات یک شبکه ژئودتیک سه بعدی متشکل از طول‌های مبنا (Base line) اندازه‌گیری شده با GPS کافی است؟
 (۱) یک نقطه
 (۲) دو نقطه و یک آزیموت
 (۳) سه نقطه
 (۴) یک نقطه و یک آزیموت
- ۲۰- در تئوری مالدنسکی (Molodenskij) برای محاسبه ژئوئید، کدام عبارت درست است؟
 (۱) پتانسیل نرمال بر روی شبه ژئوئید مساوی پتانسیل واقعی بر روی بیضوی است.
 (۲) پتانسیل واقعی بر روی سطح زمین مساوی پتانسیل نرمال بر روی شبه ژئوئید است.
 (۳) پتانسیل نرمال بر روی تلوروئید مساوی پتانسیل واقعی بر روی زمین است.
 (۴) پتانسیل واقعی بر روی تلوروئید مساوی پتانسیل واقعی بر روی بیضوی است.
- ۲۱- کدام عبارت در رابطه با تناظریابی تصاویر رقومی صحیح است؟
 (۱) روش‌های ناحیه مبنا دقت هندسی بهتری نسبت به روش‌های عارضه مبنا دارند.
 (۲) فضای جستجو در روش‌های عارضه مبنا بزرگتر از روش‌های ناحیه مبنا می‌باشد.
 (۳) روش‌های ناحیه مبنا قابلیت اطمینان بهتری نسبت به روش‌های عارضه مبنا دارند.
 (۴) روش‌های ناحیه مبنا در برابر اعوجاجات رادیومتریکی عملکرد بهتری نسبت به روش‌های عارضه مبنا دارند.
- ۲۲- از کدام تکنیک می‌توان برای استخراج عوارض ناحیه‌ای در عملیات تناظریابی استفاده کرد؟
 (۱) Histogram Equalization
 (۲) Histogram Matching
 (۳) Histogram Stretching
 (۴) Histogram Thresholding
- ۲۳- در کشف گوشه‌های تصویر رقومی با اپراتور Forstner، اگر ماتریس ساختار (اینرشیا) را با C نشان دهیم در این صورت کدام یک از حالت‌های زیر بیانگر وجود گوشه قوی در محل مورد بررسی است؟
 (۱) دترمینان ماتریس C کوچک ولی اثر (trace) ماتریس C بزرگ باشد.
 (۲) دترمینان ماتریس C بزرگ ولی اثر (trace) ماتریس C کوچک باشد.
 (۳) دترمینان و اثر (trace) ماتریس C هر دو بزرگ باشد.
 (۴) دترمینان و اثر ماتریس C هر دو کوچک باشد.
- ۲۴- با اعمال فرایند Histogram Equalization روی تصویر رقومی، قدر مطلق آنتروپی تصویر چه تغییری می‌کند؟
 (۱) در هر حال افزایش می‌یابد.
 (۲) در هر حال کاهش می‌یابد.
 (۳) در همه حالات ثابت می‌ماند.
 (۴) می‌تواند ثابت بماند یا افزایش پیدا کند.
- ۲۵- در رابطه با فرایند کوانتیزاسیون تصاویر رقومی کدام عبارت صحیح است؟
 (۱) این فرایند، گسسته‌سازی درجات خاکستری در تصاویر رقومی است.
 (۲) این فرایند، گسسته‌سازی متغیرهای مکانی در تصاویر رقومی است.
 (۳) این فرایند، پیوسته‌سازی مکانی و درجات خاکستری مقادیر رقومی است.
 (۴) این فرایند، گسسته‌سازی متغیرهای غیرمکانی در تصاویر رقومی است.
- ۲۶- در صورتی که بخواهیم دوران تصویر رقومی تأثیری در فرایند نرم‌سازی تصویر نداشته باشد، کدام گزاره، فیلتر مناسب را ارائه می‌دهد؟
 (۱) مربعی
 (۲) لوزی
 (۳) دایره‌ای
 (۴) مستطیلی

۲۷- در صورتی که برای تناظریابی ۲ تصویر هوایی قائم از روش تناظریابی کمترین مربعات (LSM) استفاده شود، کدام گزاره درجه آزادی سرشکنی را برای تناظریابی یک نقطه ارائه می‌دهد؟ (از مدل هندسی افاین برای ارتباط دو تصویر و همچنین از مدل خطی برای رفع اعوجاجات رادیومتریکی دو تصویر استفاده شده و ابعاد پنجره تناظریابی 5×5 می‌باشد).

۱۷ (۱) ۱۸ (۲) ۲۲ (۳) ۲۳ (۴)

۲۸- در یک تصویر رقومی 10×10 بیتی، کمینه و بیشینه درجات خاکستری تصویر به ترتیب ۲۲۰ و ۴۷۶ می‌باشد. اگر به روش کشش خطی کنتراست، هیستوگرام تصویر تغییر یابد، در این صورت دامنه درجات خاکستری تصویر و درجه خاکستری پیکسلی با ارزش 440 به ترتیب از راست به چپ چند برابر می‌شود؟

۴ و ۴ (۱) ۲ و ۴ (۲) ۲ و ۲ (۳) ۴ و ۲ (۴)

۲۹- اپراتور تیزکننده لبه (Sharpening) لاپلاس کدام یک از موارد زیر است؟

$$\begin{pmatrix} 1 & 0 & 1 \\ 0 & -4 & 0 \\ 1 & 0 & 1 \end{pmatrix} \quad (۲)$$

$$\begin{pmatrix} -1 & 1 & 1 \\ -1 & -2 & 1 \\ -1 & 1 & 1 \end{pmatrix} \quad (۱)$$

$$\begin{pmatrix} 1 & 1 & 1 \\ 1 & -8 & 1 \\ 1 & 1 & 1 \end{pmatrix} \quad (۴)$$

$$\begin{pmatrix} 0 & -1 & 0 \\ -1 & 5 & -1 \\ 0 & -1 & 0 \end{pmatrix} \quad (۳)$$

۳۰- اگر بالاترین فرکانس موجود در یک سیگنال آنالوگ برابر ۸ هرتز باشد، در این صورت جهت برقراری نرخ

نمونه‌برداری نایکوئیست (Nyquist)، نرخ نمونه‌برداری بهینه آن سیگنال در حوزه فرکانس $\left(\frac{1}{T}\right)$ کدام است؟

۵ (۱) ۸ (۲) ۱۵ (۳) ۱۷ (۴)

۳۱- اگر بخواهیم با استفاده از تبدیل موجک (Wavelet Transformation)، باند طیفی قرمز با توان تفکیک مکانی

۴ سانتی‌متر را با تصویر پانکروماتیک با توان تفکیک مکانی ۱ سانتی‌متر تلفیق نمائیم تا باند طیفی قرمز با توان

تفکیک مکانی ۱ سانتی‌متر حاصل شود، کدام یک از گزینه‌های زیر روند صحیح تلفیق تصاویر را نشان می‌دهد؟

(۱) اعمال تبدیل موجک مستقیم روی تصویر پانکروماتیک، جایگزینی مؤلفه HH با باند قرمز و سپس اعمال تبدیل موجک معکوس

(۲) اعمال تبدیل موجک مستقیم روی تصویر پانکروماتیک، جایگزینی مؤلفه LL با باند قرمز و سپس اعمال تبدیل موجک معکوس

(۳) اعمال تبدیل موجک مستقیم روی باند قرمز، جایگزینی مؤلفه HH با تصویر پانکروماتیک و سپس اعمال تبدیل موجک معکوس

(۴) اعمال تبدیل موجک مستقیم روی باند قرمز، جایگزینی مؤلفه LL با تصویر پانکروماتیک و سپس اعمال تبدیل موجک معکوس

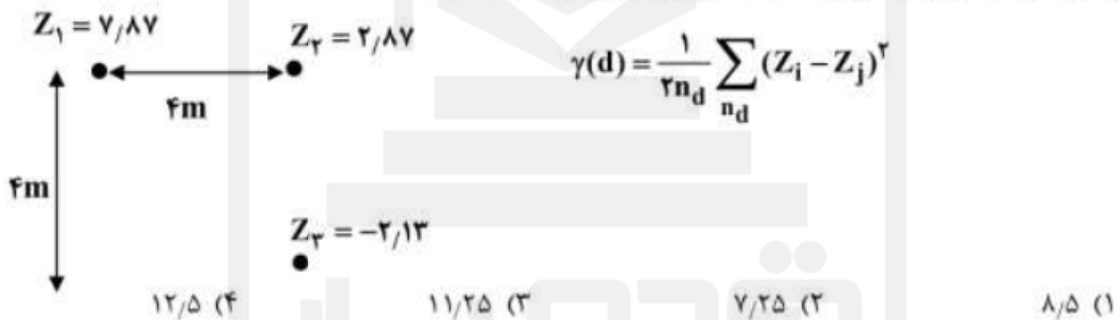
۳۲- در یک تصویر رقومی با نویز بالا، برای استخراج لبه‌های تصویر با دقت و ماهیت اطلاعاتی بالا، از اپراتور LOG در یک فرایند دو مرحله‌ای استفاده شده است. به این صورت که در مرحله اول، لبه‌ها با مقدار σ_1 استخراج شده و سپس در مرحله دوم، لبه‌های مستخرج از مرحله اول، مجدداً با σ_2 استخراج شده است. در رابطه با انتخاب مقدار مناسب برای σ_1 و σ_2 کدام گزینه صحیح است؟

- (۱) $\sigma_2 > \sigma_1$
 (۲) $\sigma_2 < \sigma_1$
 (۳) $\sigma_2 = \sigma_1$
 (۴) $\frac{\sigma_1 \times \sigma_2}{\sigma_1 + \sigma_2} = 1$

۳۳- برای انجام توجیه داخلی یک عکس اسکن شده که دارای چهار علامت حاشیه‌ای (FM) است، کدام یک از مدل‌های زیر را توصیه می‌کنید؟

- (۱) 2D Rigid
 (۲) 2D Conformal
 (۳) Linear polynomial
 (۴) Bilinear polynomial

۳۴- با توجه به شکل و رابطه زیر، مقدار سمی‌واریانس در $d = 4$ کدام است؟



۳۵- در داده‌های حجیم با افزایش بعد فضا، دقت جداسازی داده‌ها و دقت تخمین پارامترهای آماری به ترتیب از راست به چپ چگونه تغییر می‌کنند؟

- (۱) بیشتر می‌شود - بیشتر می‌شود
 (۲) بیشتر می‌شود - کم‌تر می‌شود
 (۳) کم‌تر می‌شود - کم‌تر می‌شود
 (۴) کم‌تر می‌شود - بیشتر می‌شود

۳۶- ایده اصلی درون‌یابی به روش Hardy چیست؟

- (۱) استفاده از توابع پایه سینوسی به منظور انجام درون‌یابی در فضای فرکانس
 (۲) استفاده از خود ارتفاع نزدیک‌ترین نقطه معلوم به نقطه‌ای که ارتفاعش مجهول می‌باشد.
 (۳) استفاده از یک مجموعه سطوح ساده به عنوان توابع پایه جهت تقریب یک سطح پیچیده
 (۴) استفاده از یک چندجمله‌ای با درجه بالا برای تمامی نقاط به منظور حفظ همبستگی میان نقاط

۳۷- جهت مدل‌سازی رفتار یک پدیده مکانی، داده‌هایی به شکل (x, y, h) جمع‌آوری شده و از یک چندجمله‌ای به شکل $h = f(x, y)$ برای مدل‌سازی رفتار پدیده استفاده شده است. برای تعیین ضرایب چندجمله‌ای از نقاط کنترل که از میان داده‌های جمع‌آوری شده با پراکندگی مناسب انتخاب شده‌اند، استفاده شده است. در رابطه با مجموع مربعات باقیمانده‌ها در نقاط کنترل کدام جمله درست است؟

- (۱) معمولاً با افزایش تعداد نقاط کنترل کاهش می‌یابد.
 (۲) معمولاً با کاهش تعداد نقاط کنترل کاهش می‌یابد.
 (۳) معمولاً با افزایش تعداد نقاط کنترل افزایش می‌یابد.
 (۴) نمی‌توان در مورد آن نظری داد.

۳۸- در یک پروژه به منظور مدل سازی سه بعدی یک ناحیه شهری، مختصات سه بعدی نقاط واقع بر روی سطح عوارض با قدرت تفکیک ۵۰ سانتی متر جمع آوری شده است. در مورد واریانس داده های جمع آوری شده کدام جمله صحیح است؟

- (۱) هر اندازه واریانس داده ها به سمت صفر میل نماید، داده ها برای مدل سازی مناسب تر هستند.
- (۲) هر اندازه واریانس داده ها از حد معینی بیشتر باشد، داده ها برای مدل سازی مناسب تر هستند.
- (۳) در صورتی که واریانس داده ها کمتر از دو برابر کواریانس داده ها باشد، داده ها برای مدل سازی مناسب تر هستند.
- (۴) در صورتی که واریانس داده ها در حد فاصل دو حد پایین و بالا باشد، داده ها برای مدل سازی مناسب تر هستند.

۳۹- در روش SVR با کرنل به صورت $K(x,y) = (axy + 1)^d$ تعداد پارامترهایی که لازم است به منظور حل مسئله رگرسیون بهینه شود، چه تعداد است؟

- (۱) ۲
- (۲) ۳
- (۳) ۴
- (۴) ۵

۴۰- کدام عبارت در فرآیند تولید داده های رقومی نادرست است؟

- (۱) الگوریتم های مبتنی بر روش Kriging برای تولید مدل رقومی از داده های نقطه ای غیرمنظم دارای بیشترین دقت هستند.
- (۲) در تشکیل TIN از منحنی میزان با روش Delaunay نباید بیش از ۲ نقطه از یک مثلث روی یک منحنی میزان قرار بگیرند.

- (۳) در درون یابی برای مجموعه ای از نقاط به روش TIN, Delaunay حاصل به نقطه شروع الگوریتم وابسته نیست.
- (۴) فاصله دو نقطه روی Voronoi diagram از حداقل دو Site به یک اندازه است.

۴۱- در مقایسه دو مدل رقومی ارتفاعی رستری کدام عامل از اهمیت کمتری برخوردار است؟

- (۱) ابعاد پیکسل
- (۲) دقت زمین مرجع بودن
- (۳) سطح مبنای ارتفاعی
- (۴) سطح مبنای مسطحاتی

۴۲- عملگر HUFFMAN CODING به چه منظور بر روی DTM اعمال می گردد؟

- (۱) رفع نوبزهای محلی

- (۲) فشردن داده

- (۳) کدگذاری نقاطی با کمینه ارتفاع محلی (چاله ها)

- (۴) نرم کردن سطح DTM در نقاط با تغییرات ارتفاعی شدید

۴۳- کدام ساختار داده برای انجام آنالیز بر روی داده های مکانی سه بعدی که حالت حجمی دارند مناسب تر است؟

- (۱) KD-Tree
- (۲) Quad-Tree
- (۳) Oct-Tree
- (۴) TIN

۴۴- در صورتی که بر روی نقاطی از مدل رقومی ارتفاعی، اندازه بردار گرادیان با هم برابر باشند، کدام گزینه صحیح است؟

- (۱) بیشینه مقدار شیب در این نقاط با هم برابر است.

- (۲) جهت بیشینه شیب در این نقاط یکسان است.

- (۳) تمامی این نقاط بر روی منحنی تراز یکسانی قرار دارند.

- (۴) شیب سطح در این نقاط در جهات مختلف با هم برابر است.

۴۵- الگوریتم مثلث بندی Bowyer-Watson بر اساس کدام اصل عمل می نماید؟

- (۱) کمینه کردن شعاع دایره محیطی
- (۲) کمینه کردن مجموع فاصله ها

- (۳) زاویه حداقل - حداکثر
- (۴) ایجاد دایره محیطی تهی



به اطلاع داوطلبان شرکت کننده در آزمون دکتری سال 1398 می‌رساند، این کلید اولیه غیر قابل استناد است و پس از دریافت نظرات داوطلبان و صاحب نظران، کلید نهایی سوالات تهیه و بر اساس آن کارنامه داوطلبان استخراج خواهد شد. در صورت تمایل می‌توانید حداکثر تا تاریخ 1397/12/15 یا مراجعه به سیستم پاسخگویی اینترنتی به نشانی request.sanjesh.org و تکمیل فرم بررسی کلید سوالات آزمون دکتری سال 1398 اقدام نمایید. لازم به ذکر است نظرات داوطلبان فقط از طریق اینترنت و فرم مربوطه دریافت خواهد شد و به موارد ارسالی از طریق دیگر رسیدگی نخواهد شد.



گروه امتحانی	شماره پاسخنامه	نوع دفترچه	عنوان دفترچه
فنی و مهندسی	1	A	مهندسی نقشه برداری - فتوگرامتری

شماره سوال	گزینه صحیح	شماره سوال	گزینه صحیح
1	4	31	2
2	1	32	2
3	1	33	3
4	3	34	4
5	4	35	2
6	1	36	3
7	2	37	2
8	4	38	4
9	3	39	3
10	2	40	1
11	2	41	1
12	1	42	2
13	4	43	3
14	3	44	1
15	1	45	4
16	4		
17	4		
18	2		
19	1		
20	3		
21	1		
22	4		
23	2		
24	4		
25	1		
26	3		
27	1		
28	2		
29	3		
30	4		

خروج