



قدم به قدم، همراه دانشجو...

WWW.GhadamYar.Com

جامع ترین و به روزترین پرتال دانشجویی کشور (پرتال دانش)
با ارائه خدمات رایگان، تحصیلی، آموزشی، رفاهی، شغلی و...
برای دانشجویان

- (۱) راهنمای ارتقاء تحصیلی. (کاردانی به کارشناسی، کارشناسی به ارشد و ارشد به دکتری)
- (۲) ارائه سوالات کنکور مقاطع مختلف سالهای گذشته، همراه پاسخ، به صورت رایگان
- (۳) معرفی روش های مقاله و پایان نامه نویسی و ارائه پکیج های آموزشی مربوطه
- (۴) معرفی منابع و کتب مرتبط با کنکورهای تحصیلی (کاردانی تا دکتری)
- (۵) معرفی آموزشگاه ها و مراکز مشاوره تحصیلی معتبر
- (۶) ارائه جزوات و منابع رایگان مرتبط با رشته های تحصیلی
- (۷) راهنمای آزمون های حقوقی به همراه دفترچه سوالات سالهای گذشته (رایگان)
- (۸) راهنمای آزمون های نظام مهندسی به همراه دفترچه سوالات سالهای گذشته (رایگان)
- (۹) راهنمای آزمون های کارشناسان رسمی دادگستری به همراه سوالات سالهای گذشته (رایگان)
- (۱۰) آخرین اخبار دانشجویی، در همه مقاطع، از خبرگزاری های پربازدید
- (۱۱) معرفی مراکز ورزشی، تفریحی و فروشگاه های دارای تخفیف دانشجویی
- (۱۲) معرفی همایش ها، کنفرانس ها و نمایشگاه های ویژه دانشجویی
- (۱۳) ارائه اطلاعات مربوط به بورسیه و تحصیل در خارج و معرفی شرکت های معتبر مربوطه
- (۱۴) معرفی مسائل و قوانین مربوط به سربازی، معافیت تحصیلی و امریه
- (۱۵) ارائه خدمات خاص ویژه دانشجویان خارجی
- (۱۶) معرفی انواع بیمه های دانشجویی دارای تخفیف
- (۱۷) صفحه ویژه نقل و انتقالات دانشجویی
- (۱۸) صفحه ویژه ارائه شغل های پاره وقت، اخبار استخدامی
- (۱۹) معرفی خوابگاه های دانشجویی معتبر
- (۲۰) دانلود رایگان نرم افزار و اپلیکیشن های تخصصی و...
- (۲۱) ارائه راهکارهای کارآفرینی، استارت آپ و...
- (۲۲) معرفی مراکز تایپ، ترجمه، پرینت، صحافی و ... به صورت آنلاین
- (۲۳) راهنمای خرید آنلاین ارزی و معرفی شرکت های مطرح
- (۲۴)



WWW.GhadamYar.Ir

۰۹۱۲ ۳۰۹۰ ۱۰۸

WWW.PortaleDanesh.com

باما همراه باشید...

www.GhadamYar.com


WWW.GhadamYar.Org

۰۹۱۲ ۰۹ ۰۳ ۸۰۱

کد کنترل

5333

B



صبح جمعه
۱۳۹۹/۵/۳



جمهوری اسلامی ایران
وزارت علوم، تحقیقات و فناوری
سازمان سنجش آموزش کشور

«اگر دانشگاه اصلاح شود مملکت اصلاح می‌شود.»
امام خمینی (ره)

آزمون ورودی دوره‌های کارشناسی ارشد ناپیوسته داخل - سال ۱۳۹۹

مجموعه مهندسی عمران - کد (۱۲۶۴)

مدت پاسخ‌گویی: ۲۵۰ دقیقه

تعداد سؤال: ۱۳۵

عنوان مواد امتحانی، تعداد و شماره سؤالات

ردیف	مواد امتحانی	تعداد سؤال	از شماره	تا شماره
۱	زبان عمومی و تخصصی (انگلیسی)	۳۰	۱	۳۰
۲	ریاضیات	۱۵	۳۱	۴۵
۳	مکانیک جامدات (مقاومت مصالح، تحلیل سازه‌ها ۱)	۲۰	۴۶	۶۵
۴	مکانیک خاک و پی‌سازی	۲۰	۶۶	۸۵
۵	مکانیک سیالات و هیدرولیک	۲۰	۸۶	۱۰۵
۶	طراحی (سازه‌های فولادی (۲۰)، سازه‌های بتنی (۲۰۱)، راه‌سازی و روسازی راه)	۳۰	۱۰۶	۱۳۵

این آزمون نمره منفی دارد.

استفاده از ماشین حساب مجاز نیست.

حق چاپ، تکثیر و انتشار سؤالات به هر روش (الکترونیکی و...) پس از برگزاری آزمون، برای تمامی اشخاص حقیقی و حقوقی آنها با مجوز این سازمان مجاز می‌باشد و با متخلفین برابر مقررات رفتار می‌شود.

۱۳۹۹

* داوطلب گرامی، عدم درج مشخصات و امضا در مندرجات جدول ذیل، به منزله عدم حضور شما در جلسه آزمون است.

اینجانب با شماره داوطلبی با آگاهی کامل، یکسان بودن شماره صندلی خود را با شماره داوطلبی مندرج در بالای کارت ورود به جلسه، بالای پاسخنامه و دفترچه سؤالات، نوع و کد کنترل درج شده بر روی دفترچه سؤالات و پائین پاسخنامه‌ام را تأیید می‌نمایم.

امضا:

زبان عمومی و تخصصی (انگلیسی):

PART A: Vocabulary

Directions: Choose the word or the phrase (1), (2), (3), or (4) that best completes each sentence. Then mark the answer on your answer sheet.

- 1- Living close to a lake means we have an ----- supply of water.
1) inherent 2) abundant 3) inconsistent 4) eclectic
- 2- The advertisement for the weight loss pills is very ----- since studies have shown they're ineffective.
1) persistent 2) interminable 3) sensitive 4) misleading
- 3- The twins hated to be apart, so they bought houses in close ----- to each other.
1) pertinence 2) proximity 3) acquaintance 4) scrutiny
- 4- With few new jobs created, the economy has remained ----- for the past five years.
1) conservative 2) unfeasible 3) stagnant 4) impassive
- 5- Two days after the flood, fortunately the seawater finally began to ----- from our house.
1) recede 2) secede 3) proceed 4) intercede
- 6- The business used only to make bicycles, but they've now ----- a range of other cycling products.
1) diversified into 2) emerged from 3) reverted to 4) stemmed from
- 7- The audience clearly loved the play—the ----- was deafening. So it's not surprising that it got glowing reviews.
1) merit 2) rivalry 3) applause 4) benediction
- 8- Experienced Iditarod runners tried to ----- Gary Paulsen from competing in the grueling Alaska race, but they were not successful. The writer and his team of sled dogs nearly perished during the race.
1) elicit 2) derive 3) snatch 4) dissuade
- 9- The Kalapalo Indians, who live on the savannas of central Brazil, have little ----- to change their leisurely lifestyle. They work just several hours a week to provide food, their only need.
1) disinterest 2) impetus 3) impact 4) rigidity
- 10- ----- by the rude behavior of the clerk, Ms. Caine reported him to the manager. She believes that customers deserve courteous treatment, even when returning merchandise.
1) Withdrawn 2) Arisen 3) Restricted 4) Incensed

PART B: Cloze Test

Directions: Read the following passage and decide which choice (1), (2), (3), or (4) best fits each space. Then mark the answer on your answer sheet.

While elephants are often one of a zoo's top attractions, a new report charges that their level of care often falls short of star treatment. In a study (11) ----- this week, the UK's Royal Society for the Protection of Cruelty to Animals (RSPCA) said elephants in European zoos are often unhealthy, (12) ----- considerable stress, and have a much shorter life than their counterparts in the wild. Their condition is frequently even worse than (13) ----- in Asian timber camps, alleges the RSPCA, (14) ----- is calling for wide-ranging changes in the way (15) ----- . In the meantime, the group says, European zoos should stop importing and breeding elephants.

- 11- 1) released 2) was released 3) it is released 4) that releases
 12- 1) to endure 2) they endure 3) by enduring 4) endure
 13- 1) elephants 2) elephants do 3) that of elephants 4) for elephants
 14- 1) it 2) which 3) that 4) that it
 15- 1) zoo elephants are treated 2) in zoos are treated elephants
 3) elephants are treated by in zoo 4) that elephants being treated in zoos

PART C: Reading Comprehension

Directions: Read the following three passages and answer the questions by choosing the best choice (1), (2), (3), or (4). Then mark the correct choice on your answer sheet.

PASSAGE 1:

Horizontal seismic motion is a bi-directional phenomenon and the building structure must be able to resist horizontal actions in any direction. The structural elements should ensure similar resistance and stiffness in both main directions. When considering the stiffness of the structure a balance has to be made. The action effects in terms of forces may be reduced in a more flexible structure, as can be directly concluded from the acceleration response spectrum. However displacements will be greater and the design must prevent excessive displacements that might lead to either instabilities due to second order effects under the design earthquake, or instabilities due to excessive damage (cracks) under more frequent earthquakes.

The building structure should possess adequate torsional resistance and stiffness in order to limit torsional movements, which tend to stress the different structural elements in a non-uniform way.

The presence of floor and roof diaphragms is especially relevant in cases of complex and non-uniform layouts of the vertical structural systems, or where systems with different horizontal deformation characteristics are used together.

The foundations should ensure that the whole building is subjected to a uniform seismic excitation. A rigid, box-type or cellular foundation, containing a foundation slab

model. In reality, the problem with financing supplementary testing is a common issue worldwide. Designers, to avoid expenses in their own budgets are more conservative in the design or allocate additional responsibilities to the contractor.

- 21- **The best title for this passage is -----.**
- 1) The Reliability of Predictions in Geotechnical Design
 - 2) The Definition of Ground Conditions
 - 3) Limited Knowledge about Geotechnology
 - 4) Sources of Uncertainty in Geotechnical Design
- 22- **You can infer from the passage that -----.**
- 1) lack of investigation leads to inappropriate behaviors
 - 2) absolute reliability is an unattainable goal in the presence of uncertainty
 - 3) exact understanding of the subsoil is possible with precise observations
 - 4) conducting a perfect geotechnical investigation requires specialized experts
- 23- **Raising awareness about the nature and unpredictability of geotechnical conditions -----.**
- 1) results in conducting more geotechnical investigation
 - 2) leads to unknown bias in the investigation of stratification of soil parameters
 - 3) helps designers to focus their attempts on the issues of most importance
 - 4) contributes to concentrate on a complete concept of reliability
- 24- **The word “fostering” in paragraph 4 means -----.**
- 1) defining
 - 2) managing
 - 3) restricting
 - 4) supporting
- 25- **To solve the financial problems, -----.**
- 1) the extra duties are assigned to the contractors
 - 2) designers limit their budgets as much as possible
 - 3) experts become more innovative in designing each stage
 - 4) engineers try to obtain the most recent knowledge to lessen the expenses

PASSAGE 3:

Structural dynamics, is a type of structural analysis which covers the behavior of a structure subjected to dynamic loading. Dynamic loads include people, wind, waves, traffic, earthquakes, and blasts. Any structure can be subjected to dynamic loading. Dynamic analysis can be used to find dynamic displacements, time history, and modal analysis.

Structural analysis is mainly concerned with finding out the behavior of a physical structure when subjected to force. This action can be in the form of load due to the weight of things such as people, furniture, wind, snow, etc, or some other kind of excitation such as an earthquake, shaking of the ground due to a blast nearby, etc. In essence all these loads are dynamic, including the self-weight of the structure because at some point in time these loads were not there. The distinction is made between the dynamic and the static analysis on the basis of whether the applied action has enough acceleration in comparison to the structure's natural frequency. If a load is applied sufficiently slowly, the inertia forces (Newton's first law of motions) can be ignored and the analysis can be simplified as static analysis.

A static load is one which varies very slowly. A dynamic load is one which changes with time fairly quickly in comparison to the structure's natural frequency. If it changes slowly, the structure's response may be determined with static analysis, but if

it varies quickly (relative to the structure's ability to respond), the response must be determined with a dynamic analysis.

Dynamic analysis for simple structures can be carried out manually, but for complex structures finite element analysis can be used to calculate the mode shapes and frequencies.

- 26- **Dynamic loading** -----.
- 1) alludes to the load on an structure in a stationary condition
 - 2) includes the overall weight of a structure
 - 3) refers to actions having high acceleration
 - 4) can affect the structures covering special weight
- 27- **The main difference between static analysis and dynamic analysis is** -----.
- 1) actions
 - 2) frequency
 - 3) goals
 - 4) time
- 28- **Dynamic analysis, according to the passage,** -----.
- 1) is concerned with the type of force
 - 2) relates to the behavior of a physical structure
 - 3) can be done by using the hands for simple structures
 - 4) for any structure can be carried out automatically
- 29- **For finding all of the following, dynamic analysis are used EXCEPT** -----.
- 1) dynamic movements
 - 2) dynamic loadings
 - 3) evaluation of dynamic structural response under loading
 - 4) the study of the dynamic properties of systems in the frequency domain
- 30- **The author's tone in this passage is** -----.
- 1) supportive
 - 2) neutral
 - 3) enthusiastic
 - 4) argumentative

ریاضیات:

۳۱- مقدار حد $\lim_{x \rightarrow +\infty} (1+x^2 + \sqrt{1+x^4})^{\frac{1}{x}} \ln x$ کدام است؟

(۱) $\frac{1}{e}$

(۲) e

(۳) $\frac{1}{e^2}$

(۴) e^2

۳۲- مقدار $\lim_{n \rightarrow +\infty} \left(\frac{1}{1+\sqrt{n}} + \frac{1}{2+\sqrt{2n}} + \dots + \frac{1}{n+\sqrt{n^2}} \right)$ کدام است؟

(۱) ۰

(۲) ۱

(۳) $\ln 2$

(۴) $2 \ln 2$

۳۳- مساحت محصور به دو منحنی $y = \ln x$ و $y = (\ln x)^2$ کدام است؟

(۱) $e-1$

(۲) $e-2$

(۳) $3-e$

(۴) $4-e$

۳۴- اگر z یک عدد مختلط باشد به طوری که $z + \frac{1}{z} = \sqrt{3}$ آنگاه $\frac{1}{z^{100}} + \frac{1}{z^{100}}$ کدام است؟

(۱) -1

(۲) 35^{100}

(۳) 1

(۴) 35^{100}

۳۵- کدام مورد در ارتباط با سری $\sum_{n=2}^{\infty} \ln\left(1 - \frac{1}{1+2+\dots+n}\right)$ درست است؟

(۱) همگرا بوده و مقدار آن برابر $-\ln 3$ می باشد.

(۲) همگرا بوده و مقدار آن برابر $-\ln 2$ می باشد.

(۳) همگرا بوده و مقدار آن برابر -2 می باشد.

(۴) واگرا است.

۳۶- کمترین فاصله بین کره $x^2 + y^2 + z^2 + 4y - 6z + 12 = 0$ و صفحه $2x - y + 2z + 1 = 0$ کدام است؟

(۱) 4

(۲) 3

(۳) 2

(۴) 1

۳۷- فرض کنید $f(x, y)$ تابعی مشتق پذیر بر حسب x و y است به طوری که $f(x, 2x) = 1$ و $f_x(x, 2x) = x$ در

این صورت $f_y(1, 2)$ کدام است؟

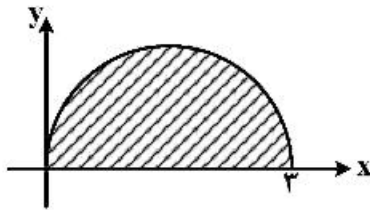
(۱) $-\frac{1}{2}$

(۲) $-\frac{1}{4}$

(۳) $\frac{1}{2}$

(۴) $\frac{1}{4}$

۳۸- حاصل $\iint_D \sqrt{9-x^2-y^2} \, dx \, dy$ که در آن D سطح نیم‌دایره نمایش داده شده در شکل زیر است، کدام است؟



$$(1) \quad 3\left(\frac{\pi}{2} + \frac{2}{3}\right)$$

$$(2) \quad 3\left(\frac{\pi}{2} - \frac{2}{3}\right)$$

$$(3) \quad 9\left(\frac{\pi}{2} + \frac{2}{3}\right)$$

$$(4) \quad 9\left(\frac{\pi}{2} - \frac{2}{3}\right)$$

۳۹- اگر منحنی c نیم دایره $0 \leq t \leq \pi$ باشد، مقدار $\int_c e^y dx + xe^y dy$ کدام است؟

$$(1) \quad -2$$

$$(2) \quad -1$$

$$(3) \quad 1$$

$$(4) \quad 2$$

۴۰- اگر D ناحیه محصور به بیضی $\frac{x^2}{9} + \frac{y^2}{4} + z^2 = 1$ و بالای صفحه $z=0$ باشد و

حاصل $\iint_S \vec{F} \cdot \vec{n} \, ds$ که در آن S سطح محصورکننده

D بوده و \vec{n} بردار یکه قائم برون‌سو باشد، کدام است؟

$$(1) \quad 2\pi$$

$$(2) \quad 4\pi$$

$$(3) \quad 8\pi$$

$$(4) \quad 12\pi$$

۴۱- جواب معادله دیفرانسیل $y' - y \tan x = e^{\sin x}$ ، $y(0) = 0$ کدام است؟

$$(2) \quad \frac{e^{\sin x} - 1}{\sin x}$$

$$(1) \quad \frac{e^{\sin x} - 1}{\cos x}$$

$$(4) \quad \tan x (e^{\sin x} - 1)$$

$$(3) \quad \tan x e^{\sin x}$$

۴۲- جواب معادله دیفرانسیل $y' = \frac{y+2x}{2y+4x-1}$ کدام است؟

$$(1) \quad x = \frac{2}{5}(y+2x) - \frac{2}{5} \ln(\Delta y + 1 \circ x - 2) + c$$

$$(2) \quad x = \frac{2}{5}(y+2x) + \frac{2}{25} \ln(\Delta y + 1 \circ x - 2) + c$$

$$(3) \quad x = \frac{2}{5}(y+2x) - \frac{1}{25} \ln(\Delta y + 1 \circ x - 2) + c$$

$$(4) \quad x = \ln(2y+4x-1) + c$$

۴۳- تابع $y = x^2 e^x$ جواب کدام معادله دیفرانسیل است؟

$$y^{(4)} + 3y''' + 3y'' + y' = 0 \quad (1)$$

$$y^{(4)} - 3y''' + 3y'' - y' = 0 \quad (2)$$

$$y''' - 2y'' + y' = 0 \quad (3)$$

$$y''' + 2y'' + y' = 0 \quad (4)$$

۴۴- جواب عمومی معادله $(\cos x)y'' + (\sin x)y' = \cos^2 x$ کدام است؟

$$y = x \sin x - x \cos x + c_1 \cos x + c_2 \quad (1)$$

$$y = x \cos x + \sin x + c_1 \cos x + c_2 \quad (2)$$

$$y = x \cos x + x \sin x + c_1 \sin x + c_2 \quad (3)$$

$$y = \cos x + x \sin x + c_1 \sin x + c_2 \quad (4)$$

۴۵- تبدیل لاپلاس معکوس $\ln\left(1 + \frac{1}{s^2}\right)$ کدام است؟

$$\frac{1 - \sin t}{t} \quad (2)$$

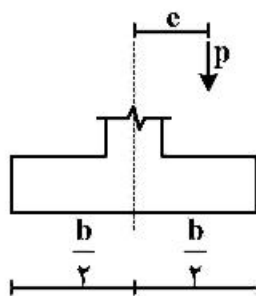
$$\frac{2(1 - \sin t)}{t} \quad (4)$$

$$\frac{1 - \cos t}{t} \quad (1)$$

$$\frac{2(1 - \cos t)}{t} \quad (3)$$

مکانیک جامدات (مقاومت مصالح، تحلیل سازه‌ها ۱):

۴۶- خروج از مرکزیت e چقدر باشد که مقطع نشان داده شده در آستانه بلند شدگی قرار گیرد؟ (عرض مقطع برابر واحد است)



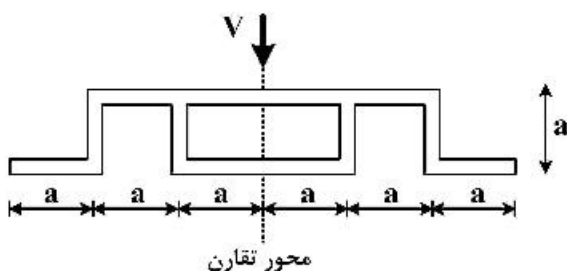
$$\frac{b}{6} \quad (1)$$

$$\frac{b}{5} \quad (2)$$

$$\frac{b}{4} \quad (3)$$

$$\frac{b}{3} \quad (4)$$

۴۷- در مقطع با ضخامت ثابت شکل زیر، تحت اثر برش V ، در چند نقطه تنش برشی برابر صفر است؟



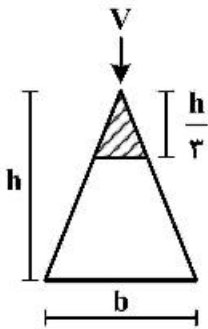
$$2 \quad (1)$$

$$4 \quad (2)$$

$$5 \quad (3)$$

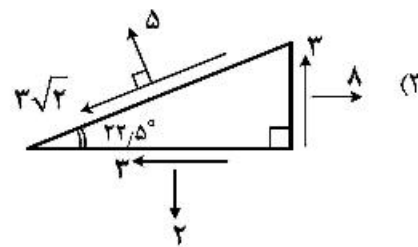
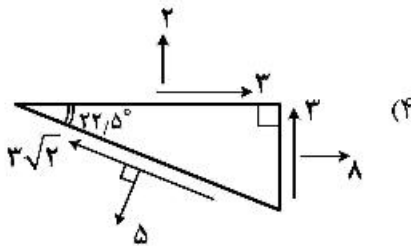
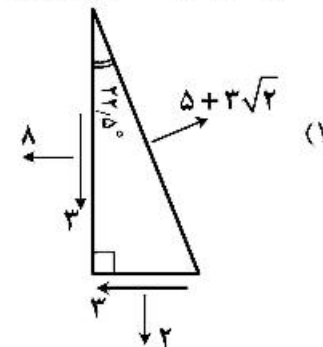
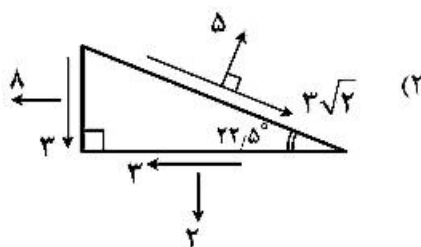
$$6 \quad (4)$$

۴۸- چه کسری از نیروی برش قائم اعمال شده V توسط قسمت هاشورخورده مقطع تحمل می‌گردد؟



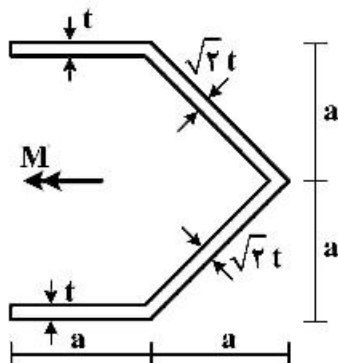
- (۱) $\frac{1}{3}$
- (۲) $\frac{1}{9}$
- (۳) $\frac{1}{27}$
- (۴) $\frac{1}{81}$

۴۹- کدام یک از گزینه‌های زیر برای نشان دادن وضعیت تنش در یک مسئله تنش مسطح نادرست است؟



۵۰- مقطع جدار نازک مطابق شکل زیر را در نظر بگیرید. مقدار انحنای خمشی مقطع چه ضربی از $\frac{M}{Ea^3t}$ است؟

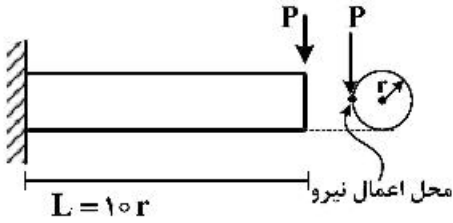
(E : مدول الاستیسیته مصالح است)



- (۱) $\frac{3}{14}$
- (۲) $\frac{2}{10}$
- (۳) $\frac{3}{8}$
- (۴) $\frac{2}{7}$

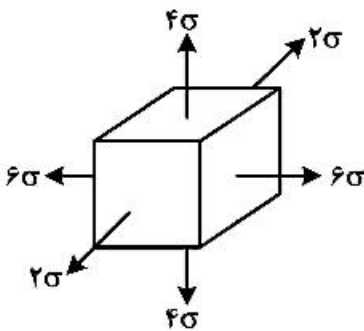
۵۱- مطابق شکل میله استوانه‌ای نشان داده شده که از یک سو گیردار شده است در انتهای آزاد تحت اثر نیروی قائم P که بر وجه بیرونی عضو وارد می‌شود قرار دارد. نسبت انرژی خمشی به انرژی پیچشی تیر کدام است؟

($v = 0.25$ و $L = 10r$)



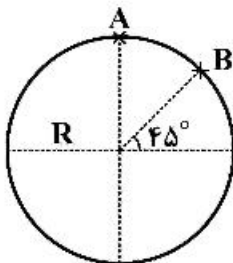
- (۱) ۴۰
- (۲) ۲۵
- (۳) $\frac{10}{3}$
- (۴) $\frac{10}{3}$

۵۲- در المان زیر (کلیه اضلاع برابر واحد) بعد از اعمال تنش‌های نرمال تغییر حجم ΔV ، کدام است؟ ($v = 0.25$)



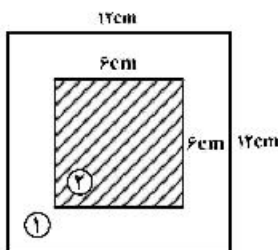
- (۱) $\frac{2\sigma}{E}$
- (۲) $\frac{4\sigma}{E}$
- (۳) $\frac{6\sigma}{E}$
- (۴) $\frac{10\sigma}{E}$

۵۳- نیروی کششی $\sqrt{2}P$ به نقطه A و نیروی فشاری $2P$ به نقطه B در مقطع مدور به شعاع R اعمال می‌شود حداکثر تنش عمودی این مقطع کدام است؟



- (۱) $1.1/2 \frac{P}{\pi R^2}$
- (۲) $9 \frac{P}{\pi R^2}$
- (۳) $6/2 \frac{P}{\pi R^2}$
- (۴) $5 \frac{P}{\pi R^2}$

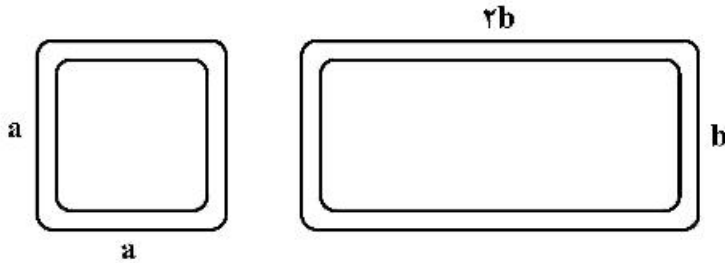
۵۴- مقطع مربعی مرکب مطابق شکل از دو ماده الاستیک خطی ساخته شده است. اگر ۲۵ درصد لنگر خمشی توسط



ماده ۲ تحمل شود، نسبت $\frac{E_2 I_2}{E_1 I_1}$ کدام است؟

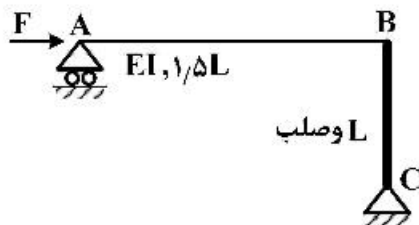
- (۱) ۵
- (۲) ۴
- (۳) $\frac{11}{2}$
- (۴) $\frac{7}{2}$

۵۵- دو مقطع جدار نازک بسته با ضخامت و محیط مقطع یکسان که یکی از آن‌ها به شکل مربع و دیگری به شکل مستطیل با نسبت ابعاد ۲ به ۱ است، تحت اثر لنگر پیچشی قرار می‌گیرند. نسبت سختی پیچشی مقطع مربعی به مقطع مستطیلی کدام است؟



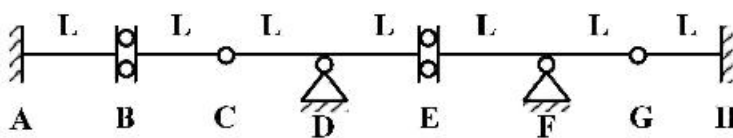
- (۱) $\frac{81}{64}$
 (۲) $\frac{64}{81}$
 (۳) $\frac{9}{8}$
 (۴) $\frac{8}{9}$

۵۶- تغییر مکان افقی تکیه‌گاه A کدام است؟



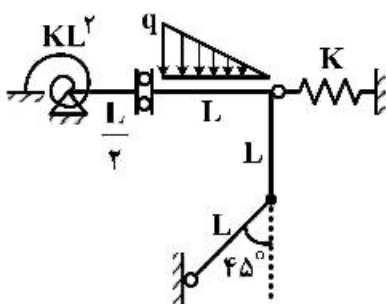
- (۱) صفر
 (۲) $\frac{FL^3}{2EI}$
 (۳) $\frac{FL^3}{3EI}$
 (۴) $\frac{2FL^3}{3EI}$

۵۷- در تیر نشان داده شده حداکثر اختلاف برش سمت راست و چپ تکیه‌گاه F بر اثر بار زنده گسترده یکنواخت به شدت w چقدر است؟ (بار زنده می‌تواند در دهانه‌های دلخواه اعمال گردد)



- (۱) $\frac{5}{2}wL$
 (۲) $2wL$
 (۳) $\frac{7}{2}wL$
 (۴) $4wL$

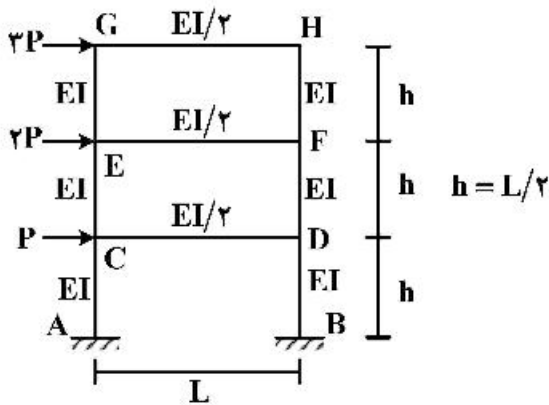
۵۸- در قاب نشان داده شده لنگر فنر دورانی کدام است؟ (صلبیت خمشی اعضا EI، سختی فنر انتقالی K و سختی فنر دورانی KL^2 می‌باشد).



فنر دورانی KL^2 می‌باشد.

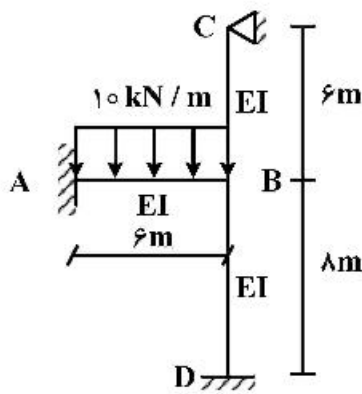
- (۱) صفر
 (۲) $\frac{1}{3}qL^2$
 (۳) $\frac{2}{3}qL^2$
 (۴) $\frac{5}{6}qL^2$

۵۹- مقدار نیروی محوری تیر CD چقدر است؟



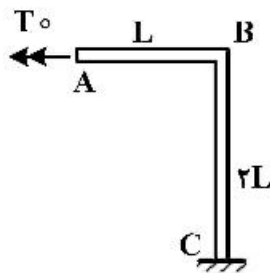
- (۱) $\frac{P}{2}$
- (۲) P
- (۳) $\frac{2P}{2}$
- (۴) ۶P

۶۰- مقدار لنگر در تکیه‌گاه A چند کیلونیوتن متر (kN.m) است؟

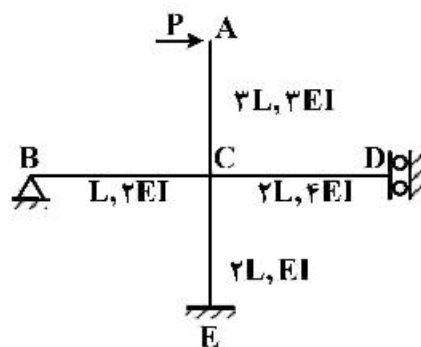


- (۱) ۲۲/۵
- (۲) ۲۴
- (۳) ۳۶
- (۴) ۴۵

۶۱- در قاب نشان داده شده مقطع اعضا دایره به شعاع R می‌باشد. اگر لنگر پیچشی T_0 در گره A اعمال شود. زاویه پیچش در گره A چه ضربی از $\frac{T_0 L}{E\pi R^4}$ است؟ ($G = 0.8E$)

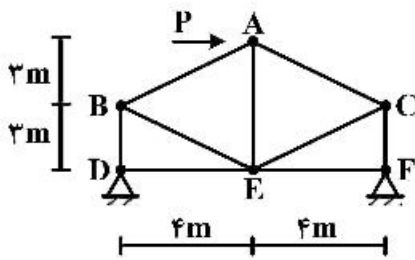


۶۲- لنگر خمشی در تکیه‌گاه F چقدر است؟



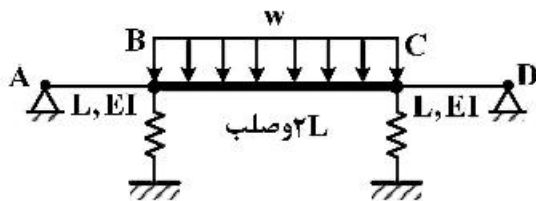
- (۱) $\frac{1}{5} PL$
- (۲) $\frac{2}{5} PL$
- (۳) $\frac{3}{10} PL$
- (۴) $\frac{6}{11} PL$

۶۳- در خرابی نشان داده شده بار P به صورت افقی به گره A وارد می شود مقدار نیروی داخلی عضو BE چقدر است؟ (صلبیت محوری همه اعضا EA می باشد)



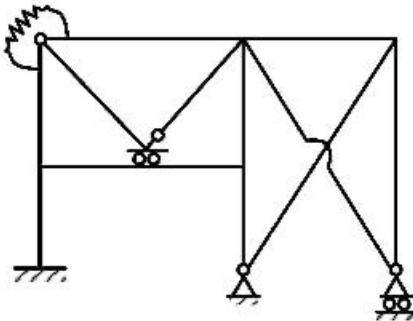
- (۱) $\frac{\Delta P}{8}$
 (۲) $\frac{\Delta P}{4}$
 (۳) $\frac{\Delta P}{2}$
 (۴) ۰

۶۴- در صورتی که ضریب سختی هر یک از فنرها $K = \frac{6EI}{L^3}$ باشد؛ حداکثر جابه جایی تیر صلب BC کدام است؟



- (۱) $\frac{wL^4}{12EI}$
 (۲) $\frac{wL^4}{9EI}$
 (۳) $\frac{wL^4}{6EI}$
 (۴) $\frac{wL^4}{3EI}$

۶۵- درجه نامعینی سازه زیر چند است؟



- (۱) ۱۰
 (۲) ۱۳
 (۳) ۱۵
 (۴) ۱۷

مکانیک خاک و پی سازی:

۶۶- یک خاک مصنوعی از سه نوع دانه های کروی شکل با قطرهای ۲، ۴ و ۶ میلی متر تشکیل شده است. جنس دانه ها یکسان است، طبقه بندی این خاک بر اساس روش متحد کدام یک از گزینه های زیر می تواند باشد؟ (تعداد دانه ها از سه قطر مختلف یکسان است)

- (۱) GP یا GW (۲) SP یا SW (۳) GM یا GC (۴) SM یا SC

۶۷- در صورتی که در آزمایش تعیین حد روانی ارتفاع سقوط جام کاساگرانده کمتر از حد استاندارد تنظیم گردد، حد روانی به دست آمده از آزمایش به مقدار استاندارد می بایستی به دست می آمد چه تغییری می نماید؟

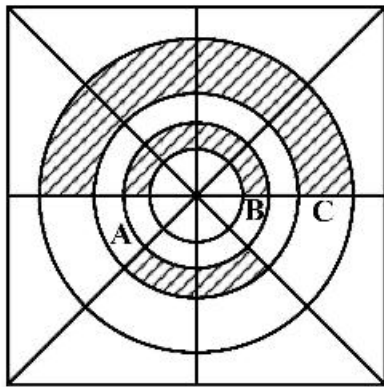
- (۱) کمتر می گردد.
 (۲) بیشتر می گردد.
 (۳) تغییری نمی نماید.
 (۴) مقدار حد روانی هیچ ربطی به ارتفاع سقوط جام کاساگرانده ندارد.

۶۸- وزن مخصوص خشک خاکی ۲۰ درصد کمتر از وزن مخصوص حالت اشباع آن است. اگر نشانه خلاء نمونه برابر با $\frac{2}{3}$

باشد، در آن صورت وزن مخصوص اشباع نمونه (γ_{sat}) چند کیلونیوتن بر مترمکعب ($\frac{kN}{m^3}$) است؟ ($\gamma_w = 10 \frac{kN}{m^3}$)

- (۱) ۱۶ (۲) ۱۸ (۳) ۲۰ (۴) ۲۲

۶۹- نقشه پلان هتلی، با مقیاس معین، بر روی منحنی‌های تأثیر نیومارک منطبق گردیده و شبیه شکل زیر است. اگر اضافه تنش قائم ناشی از ساخت ساختمان ۱ طبقه A در نقطه‌ای به عمق Z در زیر آب‌نمای مرکزی مجموعه (مرکز دوایر) برابر σ_0 باشد، پس از ساخت ساختمان ۲ طبقه B و ساختمان ۳ طبقه C، حدوداً چه مقدار به تنش نقطه مذکور، اضافه می‌گردد؟ (تنش زیر ساختمان A، B و C بر روی سطح زمین به ترتیب q، ۲q و ۳q می‌باشد).



(۱) $20\sigma_0$

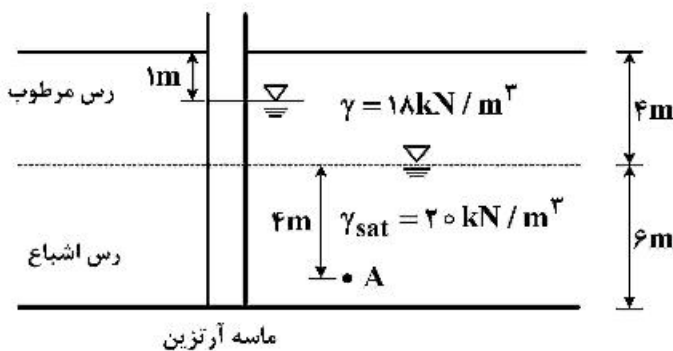
(۲) $10\sigma_0$

(۳) $4\sigma_0$

(۴) بدون اطلاع از مقدار Z، طول پاره خط مقیاس و سطح اشغال ساختمان‌ها قابل محاسبه نیست.

۷۰- مطابق شکل، لایه رس بر روی لایه ماسه‌ای با فشار آرتزین واقع شده است و تراوش پایدار قائم در لایه رس برقرار

است. تنش مؤثر در نقطه A چند کیلوپاسکال (kPa) است؟ (وزن مخصوص آب $\gamma_w = 10 \frac{kN}{m^3}$ منظور شود)



(۱) ۱۵۲

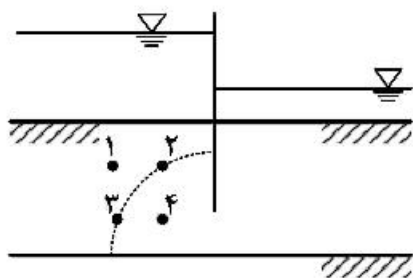
(۲) ۱۱۲

(۳) ۹۲

(۴) ۸۷

۷۱- در شکل زیر در مسئله عبور آب از زیر سپر، نقاط ۱ و ۲ و همچنین نقاط ۳ و ۴ هم‌تراز بوده و نقاط ۲ و ۳ بر روی یکی از خطوط هم‌پتانسیل قرار دارند. در رابطه با مقیاس فشار آب حفره‌ای نقاط ۱، ۲، ۳ و ۴ کدام گزینه همواره

صحيح است؟



(۱) $P_3 > P_4$ و $P_1 > P_2$

(۲) $P_3 > P_2$ و $P_4 > P_1$

(۳) $P_4 > P_2$ و $P_3 > P_1$

(۴) $P_3 > P_2$ و $P_4 > P_2$

۷۲- در یک خاک که از قبل با یک سربار یکنواخت و گسترده پیش بارگذاری شده است و اکنون سربار وجود ندارد، ضریب پیش تحکیمی با تغییرات عمق چه تغییری می‌کند؟

(۱) با افزایش عمق کاهش می‌یابد.

(۲) با افزایش عمق، ثابت می‌ماند.

(۳) با افزایش عمق، افزایش می‌یابد.

(۴) ضریب پیش تحکیمی به عمق خاک وابسته نیست.

۷۳- نمونه رس عادی تحکیم‌یافته با ضخامت f_{cm} و زهکشی دو سویه با افزایش تنش قائم از 100 kPa به 200 kPa پس از گذشت 100 روز به 50 درصد تحکیم خود می‌رسد. برای نمونه‌ای از همین رس به ضخامت H با زهکشی یک‌سویه تحت همان افزایش تنش 900 روز طول می‌کشد تا به همان درجه تحکیم برسد. نسبت نشست تحکیمی لایه رس دوم به نشست تحکیمی لایه رس اول کدام است؟

(۱) ۹

(۲) $3/5$

(۳) $1/5$

(۴) ۱

۷۴- یک نمونه خاک رس پیش تحکیم‌یافته، در آزمایش سه محوری تحت تنش همه جانبه $\sigma_p = 100 \text{ kPa}$ قرار گرفته است. در صورتی که با افزایش تنش انحرافی در لحظه گسیختگی شرایط تنش در صفحه گسیختگی به صورت $\sigma = 130 \text{ kPa}$ و $\tau = 40 \text{ kPa}$ باشد، تنش اصلی ماکزیمم در لحظه گسیختگی چند کیلوپاسکال (kPa) است؟

(۱) $183/3$

(۲) $162/5$

(۳) $82/3$

(۴) بدون اطلاع از C و ϕ قابل محاسبه نمی‌باشد.

۷۵- نمونه ماسه‌ای بدون چسبندگی ($C' = 0$) در آزمایش سه محوری تحکیم‌یافته - زهکشی شده (CD) تحت تنش مؤثر همه‌جانبه 100 kPa تحکیم‌یافته و با تنش انحرافی 200 kPa گسیخته شده است. نمونه مشابه دیگری از همین خاک در آزمایش سه‌محوری تحکیم‌یافته - زهکشی نشده (CU) تحت تنش مؤثر همه‌جانبه 200 kPa تحکیم‌یافته و با تنش انحرافی 250 kPa گسیخته شده است. فشار آب حفره‌ای در زمان گسیختگی در آزمایش CU چند کیلوپاسکال (kPa) است؟

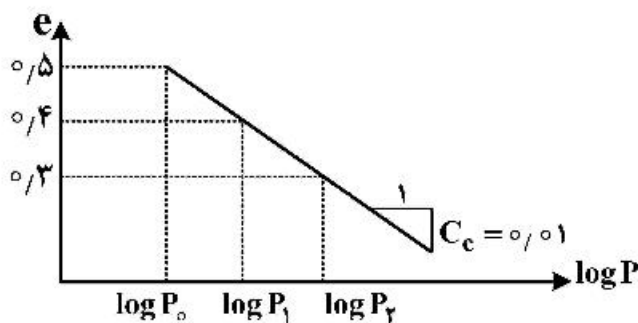
(۱) ۱۰۰

(۲) ۸۵

(۳) ۷۵

(۴) ۶۰

۷۶- اگر ضخامت اولیه یک نمونه خاک رسی اشباع برابر 6 سانتی‌متر و تخلخل آن 50 درصد باشد. در فرایند تحکیم و در بازه‌ای که تخلخل نمونه از 40 درصد به 30 درصد تغییر می‌یابد، مقدار کاهش ضخامت نمونه چند میلی‌متر خواهد بود؟



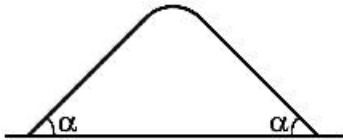
(۱) ۱۲

(۲) ۴

(۳) $0/4$

(۴) بدون اطلاع از مقادیر بار متناظر با تخلخل‌ها، قابل محاسبه نیست.

۷۷- در صورتی که مقداری خاک دانه‌ای غیرچسبنده با زاویه اصطکاک داخلی ϕ بر روی سطح افقی تخیله گردد، توده‌ای به شکل زیر تشکیل می‌گردد. زاویه α حدوداً چه مقدار است؟



$$(1) 45^\circ$$

$$(2) \frac{\pi}{4} + \frac{\phi}{2}$$

$$(3) \frac{\pi}{4} - \frac{\phi}{2}$$

$$(4) \phi$$

۷۸- قطر خارجی یک نمونه گیر ۵۰ میلی‌متر و قطر داخلی آن ۴۰ میلی‌متر است، نمونه به دست آمده از این نمونه‌گیر چه وضعیتی دارد؟

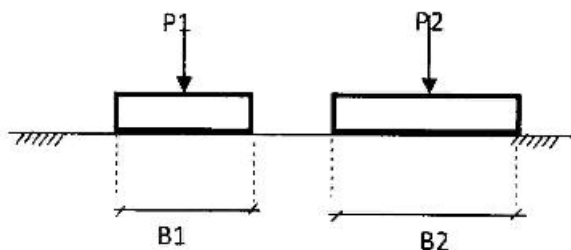
(۱) نمونه دست‌خورده است.

(۲) نمونه کمی دست‌خورده است.

(۳) نمونه بسیار دست‌خورده است.

(۴) در مورد نمونه نمی‌توان اظهار نظر نمود.

۷۹- مطابق شکل زیر دو پی مربعی روی زمین بکنواخت و ایزوتروپ (همسان) و الاستیک قرار گرفته‌اند (E, ν) ولی نیروهای روی ستون‌های وارد بر آن‌ها مساوی نبوده به طوری که $P_1/P_2 = m$ فرض می‌گردد. برای اطمینان از شرایط پایداری مجموعه، پی‌ها نباید نشست الاستیک اختلافی داشته باشند. با این شرط رابطه بین ابعاد پی‌ها (B_1, B_2) بر حسب m کدام است؟



$$(1) \frac{B_1}{B_2} = m$$

$$(2) \frac{B_2}{B_1} = m$$

$$(3) \frac{B_1}{B_2} = m^2$$

$$(4) \frac{B_2}{B_1} = m^2$$

۸۰- یک پی نواری به عرض ۳ متر در عمق ۲ متری در خاک ماسه‌ای با زاویه اصطکاک داخلی 30° درجه واقع شده است. وزن مخصوص اشباع خاک 20 کیلونیوتن بر مترمکعب و وزن مخصوص خشک آن 16 کیلونیوتن بر مترمکعب است. در صورتی که سطح آب زیرزمینی از عمق 12 متری از سطح زمین تا عمق 6 متری از سطح زمین بالا بیاید، تغییر ظرفیت باربری پی چگونه است؟

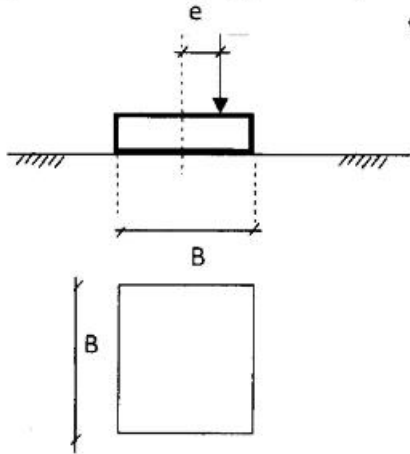
(۱) تغییری نمی‌کند.

(۲) 50% درصد کاهش می‌یابد.

(۳) بیشتر از 50% درصد کاهش می‌یابد.

(۴) کمتر از 50% درصد کاهش می‌یابد.

- ۸۱- مطابق شکل یک پی مربعی به ابعاد $B \times B$ تحت یک بار با خروج از مرکزیت $e = 0.1B$ قرار گرفته است. اگر خروج از مرکزیت بار ۲ برابر شود، تنش حداکثر زیر پی چه تغییری می‌نماید؟

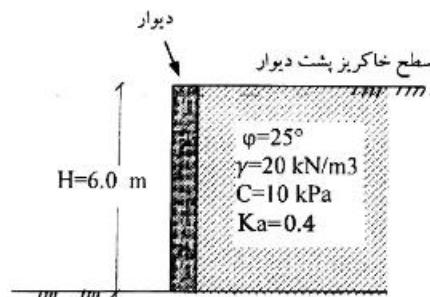


- (۱) تقریباً ۷۸٪ افزایش می‌یابد.
- (۲) تقریباً ۶۰٪ کاهش می‌یابد.
- (۳) تقریباً ۶۰٪ افزایش می‌یابد.
- (۴) تقریباً ۳۹٪ افزایش می‌یابد.

- ۸۲- زلزله بر فشار محرک وارد بر دیوار چه اثری دارد؟

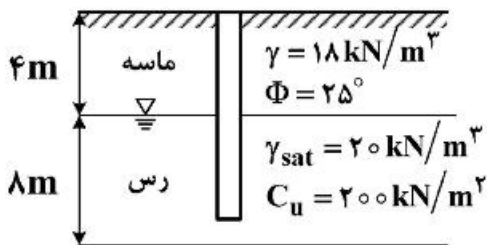
- (۱) فشار محرک بر دیوار افزایش می‌یابد و مرکز اثر آن بالاتر از مرکز اثر حالت معمولی است.
- (۲) فشار محرک بر دیوار افزایش می‌یابد و مرکز اثر آن پایین‌تر از مرکز اثر حالت معمولی است.
- (۳) فشار محرک بر دیوار کاهش می‌یابد و مرکز اثر آن پایین‌تر از مرکز اثر حالت معمولی است.
- (۴) فشار محرک بر دیوار افزایش می‌یابد و مرکز اثر آن در مرکز اثر حالت معمولی است.

- ۸۳- در شکل زیر اگر سرباری به اندازه $q_0 = 10 \text{ kPa}$ به بالای سطح خاکریز پشت دیوار تحمیل گردد، عمق ترک چند متر تغییر می‌کند؟ (از ضریب فشار افقی رانکین استفاده نمایید.)



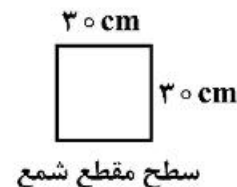
- (۱) ۱/۵ افزایش می‌یابد.
- (۲) ۱/۵ کاهش می‌یابد.
- (۳) ۱/۱۰ کاهش می‌یابد.
- (۴) ۰/۵ کاهش می‌یابد.

- ۸۴- در یک پروژه ساختمانی، طراحی شمع الزامی به نظر می‌آید، اگر شرایط لایه‌های خاک و تک شمع براساس شکل زیر باشد، باربری نوک شمع چند کیلو نیوتن (kN) است؟



$$\gamma_w = 10 \text{ kN/m}^3$$

$$\Phi = 0^\circ$$



۸۱ (۱)

۱۳۰ (۲)

۱۶۲ (۳)

۱۸۵ (۴)

۸۵- یک گروه شمع به تعداد 2×3 و به طول ۱۰ متر در خاک رس اشباع با چسبندگی زهکشی نشده برابر $100 \frac{\text{kN}}{\text{m}^2}$ اجرا شده است. مقطع شمع‌ها مربع شکل با بعد ۴۰ سانتی‌متر بوده و فاصله مرکز به مرکز آن‌ها یک متر می‌باشد. با فرض ضریب چسبندگی جدار معادل ۰٫۶، ضریب ظرفیت باربری چسبندگی (N_c^*) معادل ۹ و ضریب اطمینان برابر ۴؛ ظرفیت بار مجاز گروه شمع برابر چند کیلو نیوتن است؟

(۱) ۱۲۶۴

(۲) ۱۶۵۶

(۳) ۲۰۴۸

(۴) ۲۶۵۶

مکانیک سیالات و هیدرولیک:

۸۶- آب با وزن حجمی $10 \frac{\text{kN}}{\text{m}^3}$ و کشش سطحی $0.075 \frac{\text{N}}{\text{m}}$ در یک لوله شیشه‌ای تمیز به قطر ۲ mm تا چه ارتفاعی بر حسب میلی‌متر (mm) بالا می‌آید؟ (برای لوله شیشه‌ای تمیز زاویه تماس آب صفر درجه در نظر گرفته شود).

(۱) ۷٫۵

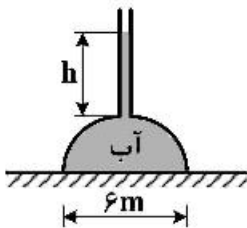
(۲) ۱۵

(۳) ۲۰

(۴) ۲۷٫۵

۸۷- گنبدی به شکل نیم‌کره به وزن 540 kN و قطر ۶ m با آب پر شده است. شخصی ادعا می‌کند که چنانچه لوله‌ای به بالای گنبد متصل کند و آن را با آب پر کند، وزن گنبد از روی زمین برداشته خواهد شد. ارتفاع مورد نیاز آب در لوله (h) برای برداشته شدن وزن گنبد از روی زمین چند متر است؟ از وزن لوله و آب داخل آن صرف‌نظر شود.

(فرض: $\gamma = 10 \frac{\text{kN}}{\text{m}^3}$, $\pi = 3$)



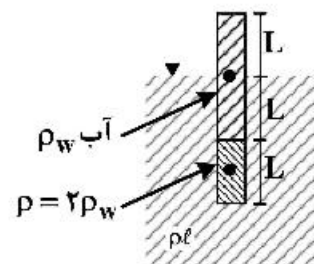
(۱) ۰٫۷۵

(۲) ۰٫۸۰

(۳) ۱٫۰۰

(۴) ۲٫۰۰

۸۸- در داخل لوله‌ای شیشه‌ای سیالی با چگالی دو برابر آب و همچنین آب با چگالی ρ_w قرار دارد. اگر این شیشه را در سیالی با چگالی ρ_e فرو بریم و مطابق شکل در وضعیت شناور باقی بماند، نسبت چگالی سیال به چگالی آب ρ_e/ρ_w کدام است؟ (از وزن لوله صرف‌نظر کنید)



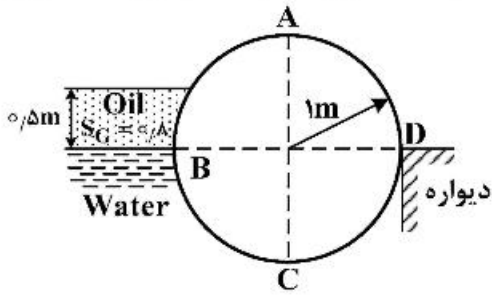
(۱) ۱٫۰

(۲) ۱٫۵

(۳) ۱٫۸

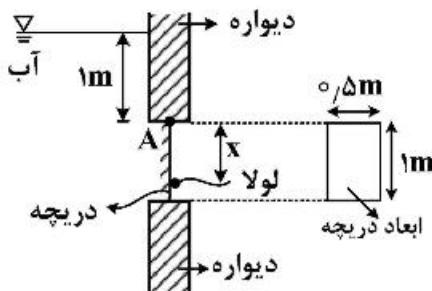
(۴) ۲٫۰

۸۹- در شکل زیر مقدار نیروی افقی که استوانه به دیواره وارد می‌کند کدام است؟ طول استوانه عمود بر صفحه، برابر واحد است.



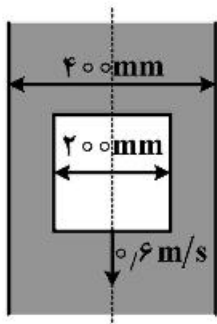
- (۱) ۰
 (۲) $0.8\gamma_w$
 (۳) $0.98\gamma_w$
 (۴) $0.1\gamma_w$

۹۰- در شکل زیر فاصله لولا از نقطه A که با پارامتر (x) نشان داده شده است، چند متر باشد تا در شرایط نشان داده شده، دریچه مستطیلی بسته بماند؟



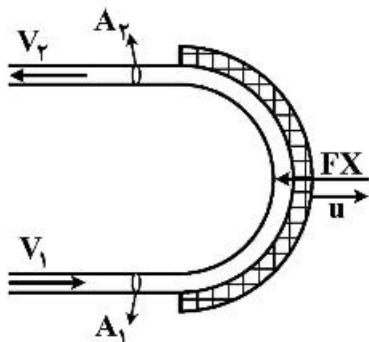
- (۱) $\frac{5}{9}$
 (۲) $\frac{2}{4}$
 (۳) $\frac{2}{3}$
 (۴) $\frac{1}{2}$

۹۱- استوانه‌ای به قطر ۲۰۰ میلی‌متر با سرعت ۰/۶ متر بر ثانیه در داخل لوله‌ای به قطر ۴۰۰ میلی‌متر (که سیال تراکم‌ناپذیری در آن قرار دارد) سقوط می‌کند. مقدار سرعت متوسط سیال (نسبت به لوله) در فضای بین لوله و استوانه بر حسب متر بر ثانیه کدام است؟



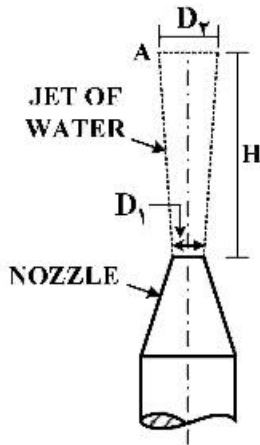
- (۱) ۰/۱۵
 (۲) ۰/۲۰
 (۳) ۰/۲۵
 (۴) ۰/۳۰

۹۲- جت آبی با سرعت مطلق v_1 و سطح مقطع A_1 به پره‌ای در صفحه افق برخورد می‌کند و به اندازه 180° منحرف می‌شود. چنانچه پره با سرعت u به سمت راست (در جهت جریان) حرکت کند. نیروی لازم برای در تعادل نگه داشتن پره کدام است؟



- (۱) صفر
 (۲) $2\rho A_1 v_1 (v_1 - u)$
 (۳) $2\rho A_1 (v_1 - u)^2$
 (۴) $2\rho A_1 v_1^2$

۹۳- مطابق شکل جت آبی از یک نازل با قطر D_1 به صورت قائم و در جهت بالا خارج می‌شود با فرض اینکه مقطع جت دایره‌ای شکل باقی بماند و سرعت خروج آب از نازل v_1 باشد، قطر سیال (D_2) ، در ارتفاع H متر بالاتر از نازل چقدر است؟



$$D_2 = D_1 \quad (1)$$

$$D_2^2 = \frac{D_1^2 v_1}{\sqrt{v_1^2 - 2gH}} \quad (2)$$

$$D_2 = \frac{D_1 v_1}{\sqrt{2g\left(\frac{v_1^2}{2g} + H\right)}} \quad (3)$$

$$D_2^2 = \frac{D_1^2 v_1}{\sqrt{2g\left(\frac{v_1^2}{2g} - H\right)}} \quad (4)$$

۹۴- استوانه‌ای قائم به جرم m و قطر D درون سیالی به وزن حجمی γ شناور است. فرکانس نوسان استوانه در جهت قائم (ω) تابع m و D و γ است. اگر جرم استوانه ۴ برابر شود ω چند برابر می‌شود؟

$$\frac{1}{4} \quad (1)$$

$$\frac{1}{2} \quad (2)$$

$$2 \quad (3)$$

$$4 \quad (4)$$

۹۵- رابطه بین تنش برشی در جدار لوله (τ_c) و ضریب اصطکاک دارسی - ویسباخ (f) به کدام صورت است؟ چگالی و v سرعت جریان می‌باشند.

$$\tau_c = \frac{\lambda f v^2}{\rho} \quad (2)$$

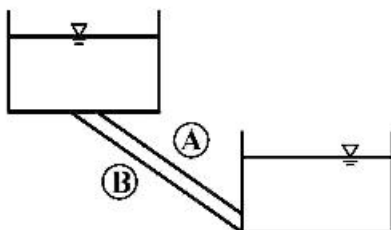
$$\tau_c = f \frac{\rho v^2}{\lambda} \quad (1)$$

$$\tau_c = \sqrt{\frac{\lambda}{f}} \rho v^2 \quad (4)$$

$$\tau_c = \sqrt{\frac{f}{\lambda}} \rho v^2 \quad (3)$$

۹۶- در انتقال آب بین دو مخزن زیر از دو لوله (A) و (B) استفاده شده است. اگر قطر لوله (A) ۲ برابر قطر لوله (B) و

هر دو لوله دارای طول یکسان و ضریب اصطکاک (f) یکسان باشند، نسبت دبی $\frac{Q_A}{Q_B}$ چقدر است؟



(از افت‌های موضعی صرف نظر می‌شود.)

$$\sqrt{2} \quad (1)$$

$$4\sqrt{2} \quad (2)$$

$$4 \quad (3)$$

$$8 \quad (4)$$

- ۹۷- سرعت نهایی چتربازی که از یک چتر با قطر ۶ متر و ضریب درگ ۲ استفاده می‌کند، چند متر بر ثانیه $\left(\frac{m}{s}\right)$ است؟ وزن چترباز و چتر مجموعاً ۷۲ کیلوگرم است.

$$\rho_{\text{هوای}} = 1 \frac{\text{kg}}{\text{m}^3}, \quad g = 10 \frac{\text{m}}{\text{s}^2}$$

$$\sqrt{\frac{60}{\pi}} \quad (1)$$

$$\frac{60}{\pi} \quad (2)$$

$$\sqrt{\frac{80}{\pi}} \quad (3)$$

$$\frac{80}{\pi} \quad (4)$$

- ۹۸- در یک کانال مستطیلی عریض آب در جریان است. سنگی در کانال انداخته می‌شود و پس از ۵ ثانیه مشاهده می‌کنیم موجی دایره‌ای به قطر ۱۰ متر با مرکز ۵ متر در پایین دست محل سقوط سنگ ایجاد شده است. نوع جریان کدام است؟
 (۱) بحرانی (۲) فوق بحرانی (۳) زیر بحرانی (۴) غیر قابل محاسبه

- ۹۹- توزیع سرعت در یک کانال مستطیلی عریضی با رابطه $v(y) = 2 \frac{y}{h} \text{ m/s}$ تخمین زده شده است. اگر عمق جریان برابر با $h = 2 \text{ m}$ فرض گردد، ضریب تصحیح مومنتم کدام است؟

$$1 \quad (1)$$

$$1/2 \quad (2)$$

$$1/33 \quad (3)$$

$$2 \quad (4)$$

- ۱۰۰- اگر رابطه مساحت با عمق در یک کانال به صورت $A = ky^4$ باشد، نسبت انرژی مخصوص حداقل به عمق بحرانی برابر کدام گزینه است؟

$$2a \quad (1)$$

$$\frac{3}{2}a \quad (2)$$

$$\frac{a+1}{a} \quad (3)$$

$$\frac{2a+1}{2a} \quad (4)$$

- ۱۰۱- در یک کانال مستطیلی اگر عمق بحرانی $y_c = 2 \text{ m}$ باشد، دبی در واحد عرض آن کانال (q) بر حسب $\frac{\text{m}^3}{\text{s.m}}$ چقدر

است؟ $g = 10 \frac{\text{m}}{\text{s}^2}$ فرض شود.

$$12/2 \quad (1)$$

$$8/95 \quad (2)$$

$$7/5 \quad (3)$$

$$5 \quad (4)$$

۱۰۲- در تغییر شیب کانال‌ها از پروفیل ملایم به پروفیل تند، پروفیل جریان در محدوده تغییر شیب کانال چگونه است؟

- (۱) M_1 در بالادست و S_1 در پایین دست
- (۲) M_2 در بالادست و S_2 در پایین دست
- (۳) M_3 در بالادست و S_3 در پایین دست
- (۴) M_3 در بالادست و S_3 در پایین دست

۱۰۳- در یک کانال مستطیلی آب با دبی $50 \frac{m^3}{s}$ منتقل می‌شود. عرض کف برابر با ۵ متر است و ضریب شزی

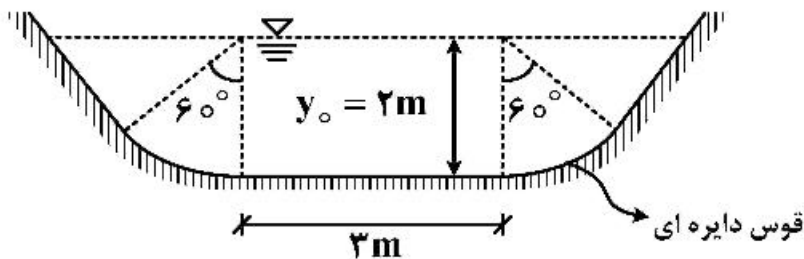
(Chezy) آن برابر با $10 \frac{m^{1/2}}{s}$ فرض شود. براساس محدودیت‌های طراحی، سرعت ماکزیمم نباید از ۲ متر بر ثانیه تجاوز کند. در حالت حداکثر شیب مجاز، تنش برشی کف بستر با استفاده از رابطه شزی چند نیوتن بر مترمربع

$$\left(\frac{N}{m^2}\right) \text{ است؟} \quad (\gamma = 10000) m^3$$

- (۱) ۸۰۰
- (۲) ۵۰۰
- (۳) ۴۰۰
- (۴) ۲۵۰

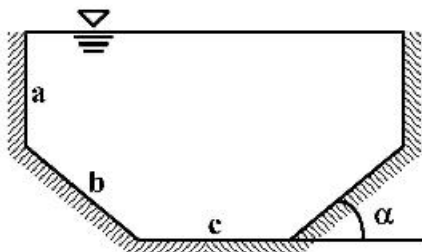
۱۰۴- در کانال با مقطع عرضی نشان داده شده در شکل زیر دبی جریان یکنواخت تقریباً چند متر مکعب بر ثانیه

$$\left(\frac{m^3}{s}\right) \text{ است؟ وقتی که } n = 0.01, s_0 = 0.0001, (\sqrt[3]{1/7} = 1/2, \sqrt{3} = 1/5, \pi = 3) \text{ هستند.}$$



- (۱) ۱۴/۵
- (۲) ۱۶/۵
- (۳) ۱۸/۵
- (۴) ۲۱/۰

۱۰۵- در کانال با مقطع نشان داده شده در شکل زیر برای تأمین یک سطح مقطع ثابت برای آن که پوشش کانال حداقل



باشد کدام گزینه صحیح است؟

- (۱) $\alpha = 60^\circ, a = b = c$
- (۲) $\alpha = 45^\circ, a = b = c$
- (۳) $\alpha = 60^\circ, 2a = b = c$
- (۴) $\alpha = 45^\circ, 2a = b = c$

طراحی (سازه‌های فولادی (۲۱)، سازه‌های بتنی (۲۱)، راه‌سازی و روسازی راه):

۱۰۶- محدودیت تغییر شکل یک تیر فولادی دو سر مفصل تحت بار مرده گسترده یکنواخت $\Delta_{max} = \frac{L}{320}$ (طول = L) بار مرده = $1/4$

تیر) می‌باشد. اگر این تیر فقط برای بار مرده نهایی طراحی شده باشد با فرض مقاومت خمشی اسمی تیر برابر با ZF_y و ضریب شکل برابر با $1/25$ ، حداقل ارتفاع تیر کدام است؟ ($E = 2 \times 10^5 \text{ MPa}$ ، $F_y = 236 \text{ MPa}$ ، ضریب افزایش

بار مرده = $1/4$)

$$d \geq 0.75L \quad (1)$$

$$d \geq 0.9L \quad (2)$$

$$d \geq 0.7L \quad (3)$$

$$d \geq 0.8L \quad (4)$$

۱۰۷- براساس مبحث دهم مقررات ملی ساختمان، در مقطع I شکل با ارتفاع جان h ضریب کمانش برشی ورق جان (K_v) کدام است؟ (a فواصل سخت‌کننده‌های عرضی است.)

$$K_v = 5 + \frac{5}{(a/h)^2} \quad (1) \text{ (اگر } a \text{ کم باشد)}$$

$$K_v = 1/2 \quad (2)$$

(3) K_v براساس مشخصات بال‌های تیر تعیین می‌شود.

(4) در هر حال ضریب K_v نباید بیش از ۲ انتخاب شود.

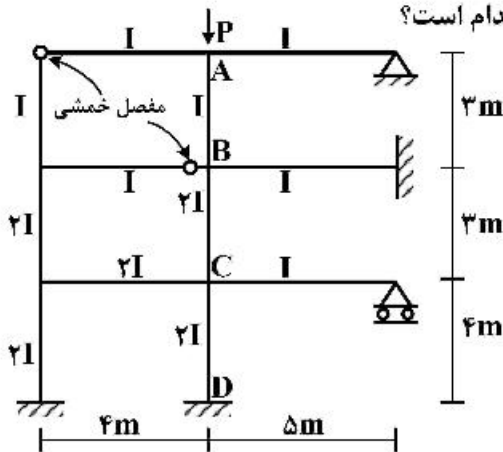
۱۰۸- ضریب طول مؤثر ستون‌های AB و BC و CD در قاب داده شده کدام است؟

$$K_{AB} < 1, K_{BC} > 1, K_{CD} > 1 \quad (1)$$

$$K_{CD} < 1, K_{AB} > 1, K_{CB} < 1 \quad (2)$$

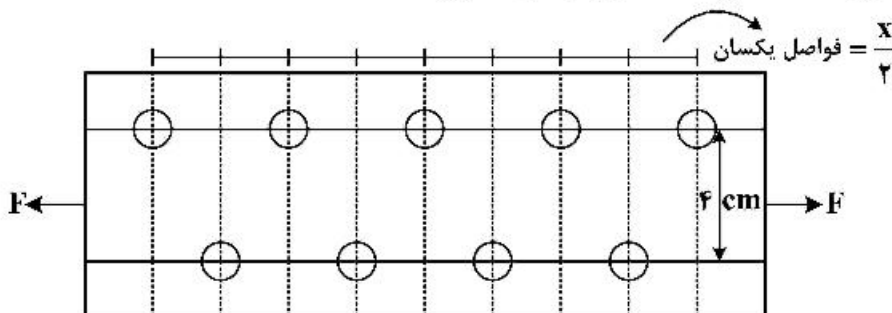
$$K_{CD} = \frac{1}{2}, K_{AB} = K_{BC} = 1 \quad (3)$$

(4) $K_{AB} = K_{BC} = K_{CD}$ و هر سه بزرگ‌تر از یک می‌باشند.



۱۰۹- برای یک تسمه کششی دو ردیف سوراخ به فاصله ۴ سانتی‌متر در نظر گرفته شده است. قطر سوراخ‌ها ۱cm بوده و فواصل سوراخ‌ها در هر ردیف در جهت محور عضو از یکدیگر x است. مقدار x چند سانتی‌متر (cm) باشد که در

محاسبه عرض مؤثر ورق در مسیر شکست‌های مختلف جواب‌ها یکسان باشد؟



$$12 \quad (1)$$

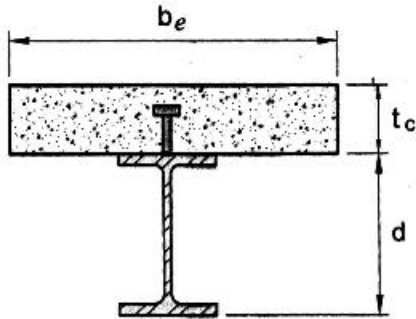
$$8 \quad (2)$$

$$4\sqrt{2} \quad (3)$$

$$4 \quad (4)$$

۱۱۰- در شکل زیر مقطع یک تیر مختلط با عملکرد مختلط کامل نشان داده شده است. اگر محور خنثی پلاستیک مقطع منطبق بر خط میانی ضخامت دال بتنی باشد، لنگر پلاستیک مقطع چقدر است؟

A_s = مساحت مقطع فولادی، F_y = تنش تسلیم مقطع فولادی، f'_c = مقاومت مشخصه فشاری بتن



$$\frac{1}{2} A_s F_y (d + t_c) + \frac{0.85}{4} b_e t_c^2 f'_c \quad (1)$$

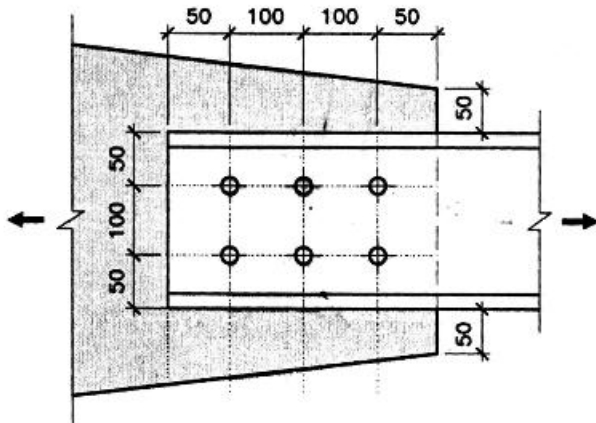
$$\frac{1}{2} A_s F_y d + \frac{3 \times 0.85}{8} b_e t_c^2 f'_c \quad (2)$$

$$A_s F_y (d + \frac{t_c}{2}) + \frac{0.85}{4} b_e t_c^2 f'_c \quad (3)$$

$$\frac{1}{2} A_s F_y (d + t_c) + \frac{0.85}{8} b_e t_c^2 f'_c \quad (4)$$

۱۱۱- در شکل زیر اتصال یک عضو کششی با مقطع ناودانی به یک ورق اتصال (ورق گاست) نشان داده شده است. پهنای مقطع و تسمور ورق اتصال بر حسب میلی‌متر (mm) به کدام یک از گزینه‌های زیر نزدیک‌تر است؟ در شکل

ابعاد به میلی‌متر است.



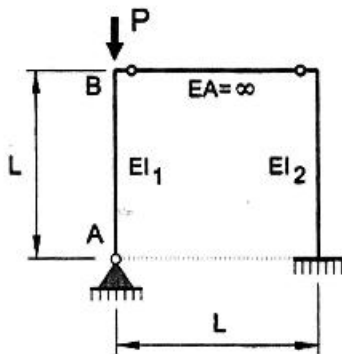
$$500 \quad (1)$$

$$400 \quad (2)$$

$$240 \quad (3)$$

$$240 \quad (4)$$

۱۱۲- در قاب فولادی شکل زیر حداقل مقدار EI_2 بر حسب EI_1 حدوداً چقدر باشد تا ستون AB مهار شده تلقی گردیده و ضریب طول مؤثر آن برابر واحد در نظر گرفته شود؟ فرض کنید عضو افقی به لحاظ محوری صلب بوده و از تغییر شکل محوری اعضای قائم صرف‌نظر شده است.



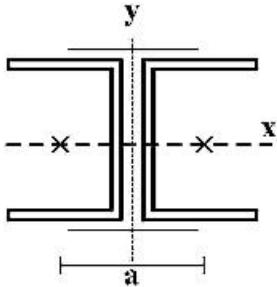
$$EI_2 \geq \pi EI_1 \quad (1)$$

$$EI_2 \geq \frac{\pi}{3} EI_1 \quad (2)$$

$$EI_2 \geq \frac{\pi^2}{9} EI_1 \quad (3)$$

$$EI_2 \geq \frac{\pi^2}{3} EI_1 \quad (4)$$

۱۱۳- یک عضو کششی که از دو مقطع ناودانی مطابق شکل تشکیل شده است را در نظر بگیرید. اگر برای یک مقطع تک ناودانی $r_x = 3r_y$ ، حداقل مقدار a چقدر باشد تا بتوان از حداکثر طول مجاز برای عضو کششی استفاده نمود؟ a) برابر فاصله مرکز به مرکز دو مقطع ناودانی است.



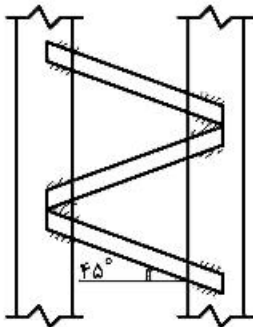
$$\frac{4\sqrt{2}}{3} I_x \quad (1)$$

$$\frac{2\sqrt{2}}{3} I_x \quad (2)$$

$$\frac{2\sqrt{3}}{3} I_x \quad (3)$$

$$\sqrt{3} I_x \quad (4)$$

۱۱۴- یک ستون دوبل با بست‌های مورب در دو طرف ستون مطابق شکل در نظر بگیرید. اگر نیروی محوری نهایی $P_u = 100 \text{ ton}$ و نیروی برشی نهایی $Q_u = 25 \text{ ton}$ به ستون اعمال شود. حداقل طول هر خط جوش لازم برای اتصال بست‌های مورب به ستون چند سانتی‌متر است؟ (مقاومت جوش برابر $3000 \frac{\text{kg}}{\text{cm}^2}$ ، بعد جوش برابر



$$(\beta = 1 \text{ و } \phi = 0.75, 10 \text{ mm})$$

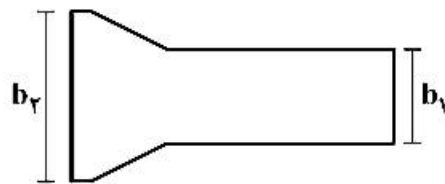
$$12 \quad (1)$$

$$8 \quad (2)$$

$$6 \quad (3)$$

$$3 \quad (4)$$

۱۱۵- در ورق روسری نشان داده شده در شکل نسبت $\frac{b_1}{b_2}$ بر چه اساسی تعیین می‌گردد؟



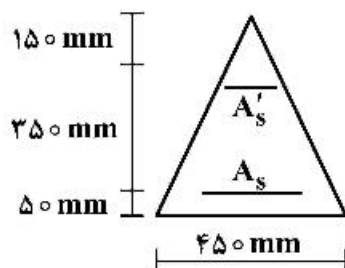
(۱) میزان نیروی کششی ورق روسری

(۲) نسبت ابعاد تیر به ستون

(۳) ϕ (ضریب کاهش مقاومت جوش)

(۴) β (ضریب بازرسی جوش)

۱۱۶- در یک تیر با مقطع مثلثی مطابق شکل، مقدار حداقل فولاد کششی که باعث جاری شدن فولاد فشاری می‌شود $\bar{A}_{s \min}$ و مقدار فولاد متعادل مقطع \bar{A}_{sb} می‌باشد. اگر ارتفاع ناحیه فشاری تحت لنگر خمشی مثبت در حالت حدی نهایی 350 میلی‌متر باشد، آنگاه کدام گزینه در ارتباط با مقدار فولاد کششی مقطع (A_s) صحیح است؟
($\epsilon_{cu} = 0.0035, f_y = 400 \text{ MPa}$)



$$A_s = \bar{A}_{sb}, A'_s = \bar{A}_{s \min} \quad (1)$$

$$A_s > \bar{A}_{sb}, A'_s > \bar{A}_{s \min} \quad (2)$$

$$A_s < \bar{A}_{sb}, A'_s < \bar{A}_{s \min} \quad (3)$$

$$A_s > \bar{A}_{sb}, A'_s = \bar{A}_{s \min} \quad (4)$$

۱۱۷- در یک ستون با مقطع دایره به قطر ۷۰۰ میلی‌متر و پوشش بتنی روی میلگردها به میزان ۵۰ میلی‌متر اثر نوع فولاد عرضی تنگ ساده یا دورپیچ بر روی شکل‌پذیری چیست و حداکثر گام دورپیچ چه میزان باید باشد؟

(۱) دورپیچ نسبت به تنگ ساده شکل‌پذیری بیشتر ایجاد می‌کند و حداکثر گام دورپیچی ۱۰۰ میلی‌متر

(۲) تنگ ساده نسبت به دورپیچ شکل‌پذیری بیشتر ایجاد می‌کند و حداکثر گام دورپیچی ۱۰۰ میلی‌متر

(۳) دورپیچ نسبت به تنگ ساده شکل‌پذیری بیشتر ایجاد می‌کند و حداکثر گام دورپیچی ۱۵۰ میلی‌متر

(۴) تنگ ساده نسبت به دورپیچ شکل‌پذیری بیشتر ایجاد می‌کند و حداکثر گام دورپیچی ۱۵۰ میلی‌متر

۱۱۸- در نمونه‌گیری از بتن برای یک سازه مقاومت سه نمونه متوالی بتن ۲۲ و ۳۲ و ۲۸ مگاپاسکال است، اگر مقاومت مشخصه بتن ۲۵ مگاپاسکال باشد، در خصوص پذیرش بتن مزبور کدام گزینه صحیح است؟

(۱) بتن تخریبی است.

(۲) بتن قابل قبول است.

(۳) بتن غیرقابل قبول است.

(۴) بتن به شرط تقویت قابل پذیرش است.

۱۱۹- در یک قاب بتن مسلح مهارنشده عوامل مؤثر در افزایش شکل‌پذیری چیست؟

(۱) افزایش مقاومت فشاری بتن و تنش حد تسلیم فولاد، کاهش نیروی محوری ستون و خاموت‌گذاری ویژه در دو سر تیر و ستون

(۲) کاهش مقاومت فشاری بتن و تنش حد تسلیم فولاد، افزایش نیروی محوری ستون و خاموت‌گذاری ویژه در دو سر تیر و ستون

(۳) افزایش مقاومت فشاری بتن، کاهش حد تسلیم فولاد، کاهش نیروی محوری ستون و خاموت‌گذاری ویژه در دو سر تیر و ستون

(۴) کاهش مقاومت فشاری بتن، افزایش حد تسلیم فولاد، افزایش نیروی محوری ستون و خاموت‌گذاری ویژه در دو سر تیر و ستون

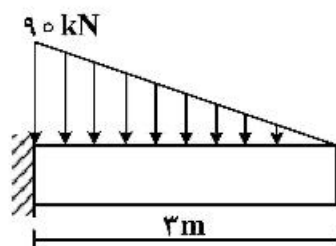
۱۲۰- تیر بتن مسلح با مقطع مستطیلی تحت بار گسترده مثلثی قرار دارد اگر نیروی برشی مقاوم بتن به غیر از آرماتورهای عرضی ۱۵ kN باشد، آنگاه تقریباً تا چه فاصله‌ای بر حسب متر (m) از تکیه‌گاه می‌بایست آرماتورهای برشی محاسباتی برای تیر مورد نظر در نظر گرفته شود؟

(۱) ۲/۵

(۲) ۲

(۳) ۱/۵

(۴) ۱



۱۲۱- در یک قاب بتن مسلح مهارشده جانبی، ضریب لاغری یکی از ستون‌ها برابر ۵۰ می‌باشد، چنانچه بار زنده محوری فشاری ستون نصف گردد کدام گزینه صحیح است؟

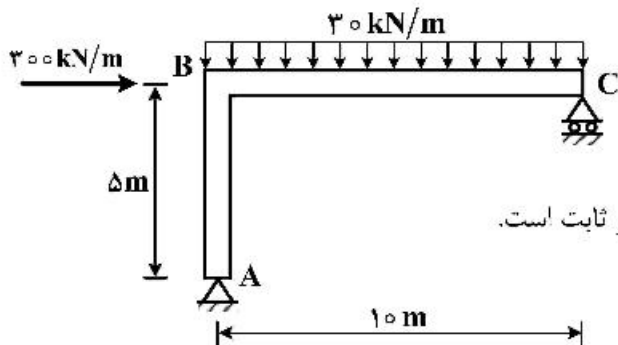
(۱) بار بحرانی ستون کاهش می‌یابد.

(۲) بار بحرانی ستون افزایش می‌یابد.

(۳) بار بحرانی ستون تغییر نمی‌کند.

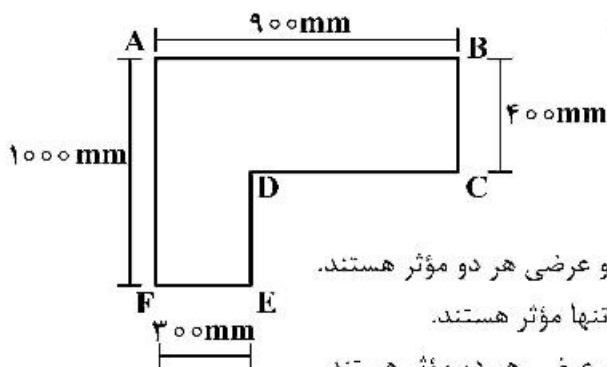
(۴) بستگی به تعداد ستون‌های طبقه دارد.

۱۲۲- در قاب شکل زیر، در شرایطی که هیچ آرماتور برشی استفاده نشود، در چه ناحیه‌ای از عضو AB پتانسیل گسیختگی برشی بیشتر است؟



- (۱) در محل حداکثر برش
- (۲) در محل حداکثر لنگر
- (۳) به مقدار نیروی محوری وابسته است.
- (۴) در طول عضو یکسان است، چون نیروی برشی در عضو ثابت است.

۱۲۳- مقطع L شکل نشان داده شده تحت پیچش قرار دارد. حداکثر تنش مماسی (برش ناشی از پیچش) در کدام ناحیه ایجاد می‌شود و فولادگذاری مؤثر در برابر پیچش کدام است؟

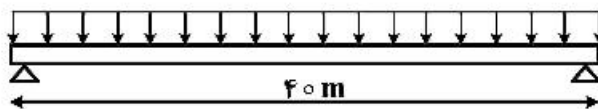


- (۱) حداکثر تنش مماسی در وسط بعد AB - فولادهای طولی و عرضی هر دو مؤثر هستند.
- (۲) حداکثر تنش مماسی در وسط بعد AB - فولادهای طولی تنها مؤثر هستند.
- (۳) حداکثر تنش مماسی در وسط بعد AF - فولادهای طولی و عرضی هر دو مؤثر هستند.
- (۴) حداکثر تنش مماسی در وسط بعد AF - فولادهای عرضی تنها مؤثر هستند.

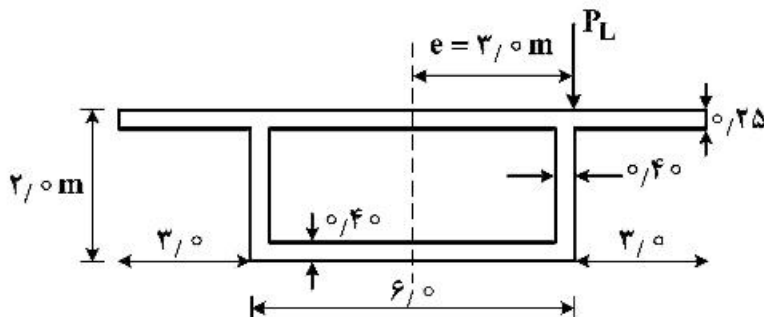
۱۲۴- تیر شکل زیر و مقطع آن، بار مرده $200 \frac{kN}{m}$ در طول خود را حمل می‌نماید. بار خطی P_L با خروج از مرکز ۳ متر بر

مقطع وارد می‌شود، مقدار این بار خطی چند کیلونیوتن بر متر $(\frac{kN}{m})$ باشد تا نیازی به تعبیه فولاد عرضی برای پیچش نباشد؟ (اثر بال‌ها در محاسبات لحاظ نشود. $f'_c = 36MPa$, $v_c = 0.8MPa$)

$$q_D = 200 \text{ kN/m}$$



- (۱) ۱۵۰
- (۲) ۱۲۰
- (۳) ۶۰
- (۴) ۳۰



مقطع جعبه ای
ابعاد به متر است

۱۲۵- نحوه انتقال نیروی پیش‌تندگی در قطعات پیش‌کشیده و پس‌کشیده به ترتیب کدام است؟

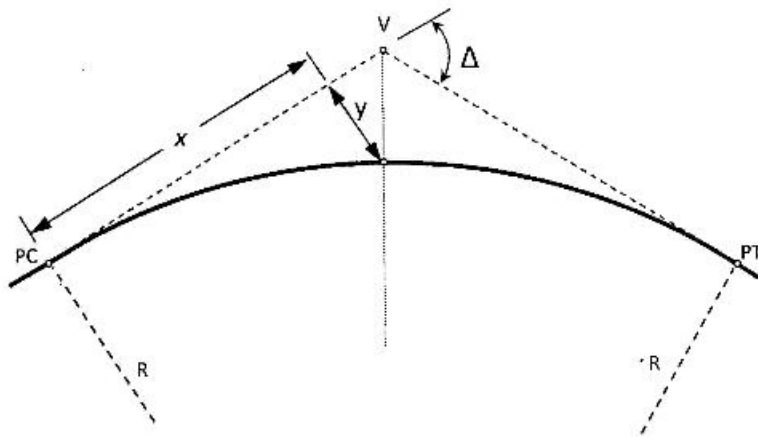
- (۱) در یک طول انتقالی از پشت گیره - انتقال نیرو از انتهای تیر
- (۲) انتقال نیرو از انتهای تیر - در یک طول انتقالی از پشت گیره
- (۳) در یک طول انتقالی از انتهای تیر - انتقال نیرو از پشت گیره
- (۴) انتقال نیرو از پشت گیره - در یک طول انتقالی از انتهای تیر

۱۲۶- در قوسی اگر: $R = ۳۵۰\text{ m}$, $\Delta = ۵۴^\circ$ باشد، اندازه y چند متر است؟

$$\sin(۵۴^\circ) = ۰٫۸$$

$$\sin(۲۷^\circ) = ۰٫۴۵$$

$$\sin(۱۰۸^\circ) = ۰٫۹۵$$



$$۲۸٫۱ \quad (۱)$$

$$۳۰٫۵ \quad (۲)$$

$$۲۶٫۱ \quad (۳)$$

$$۳۸٫۲ \quad (۴)$$

۱۲۷- در یک قوس مرکب دو مرکزی، با فرض یکسان بودن ضریب اصطکاک، لاستیک با جاده و مقدار دور، اگر سرعت

طرح در قوس با شعاع بزرگ‌تر ۲۰ درصد (بیست درصد) بیشتر در نظر گرفته شود، شعاع قوس بزرگ‌تر چند

درصد از شعاع قوس کوچک‌تر، بیشتر است؟

$$۴۰ \quad (۲)$$

$$۲۰ \quad (۱)$$

$$۵۰ \quad (۴)$$

$$۴۴ \quad (۳)$$

۱۲۸- دو نیمرخ عرضی به فاصله ۱۲۰ متر از یکدیگر، یکی تماماً در خاکریزی و به مساحت ۶۰ مترمربع و دیگری،

بخشی از آن در خاکبرداری و به مساحت ۲۰ مترمربع و بخشی در خاکریزی و به مساحت ۴۰ مترمربع قرار

دارد. حجم خاکبرداری و خاکریزی بین این دو مقطع به ترتیب چند مترمکعب (m^3) است؟

$$۴۸۰۰ \text{ و } ۱۲۰۰ \quad (۲)$$

$$۶۰۰۰ \text{ و } ۴۰۰ \quad (۱)$$

$$۶۰۰۰ \text{ و } ۱۰۰۰ \quad (۴)$$

$$۲۶۰۰ \text{ و } ۴۰۰ \quad (۳)$$

۱۲۹- در پلان یک راه اصلی، دو قوس دایره‌ای ساده راستگرد یکی با شعاع ۵۰۰ متر و دیگری با شعاع ۲۵۰ متر دربی

هم قرار گرفته‌اند. چنانچه سرعت طرح این راه $۹۰ \frac{\text{km}}{\text{h}}$ و نرخ تغییرات شتاب شعاعی $۰٫۵ \frac{\text{m}}{\text{s}^۲}$ باشد، طول قوس

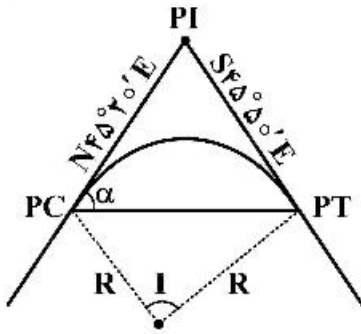
اتصال بین این دو قوس چند متر است؟

$$۷۳٫۷ \quad (۲)$$

$$۱۲۴٫۸ \quad (۱)$$

$$۵۴٫۷ \quad (۴)$$

$$۶۲٫۵ \quad (۳)$$



۱۳۰- برای قوس دایره‌ای زیر مقدار زاویه α کدام است؟

- (۱) $44^{\circ} 25'$
- (۲) $44^{\circ} 40'$
- (۳) $88^{\circ} 50'$
- (۴) $88^{\circ} 55'$

۱۳۱- کدام یک از عبارات زیر صحیح است؟

- (۱) روانی مخلوط آسفالتی در آزمایش مارشال با افزایش درصد قیر افزایش پیدا می‌کند.
 - (۲) وزن مخصوص واقعی مصالح سنگی از وزن مخصوص مؤثر مصالح سنگی بیشتر است.
 - (۳) مقدار مجاز درصد فضای خالی مخلوط آسفالتی در روش طرح اختلاط مارشال بین ۴ تا ۶ درصد است.
 - (۴) درصد فضای خالی مصالح سنگی پر شده با قیر کمتر از درصد فضای خالی مصالح سنگی در طرح اختلاط مارشال است.
- ۱۳۲- برای جاده‌ای با ۲ خط عبور در هر طرف، که ضریب توزیع جهتی ترافیک در آن 0.75 و ضریب توزیع ترافیک در هر خط ۸۰ درصد، و مقدار ترافیک تجمعی در دوران طراحی (مجموع هر دو جهت) $ESAL = 24000000$ باشد میزان ترافیک در خط عبور طرح به روش طراحی آشتو کدام است؟

- (۱) 4800000
- (۲) 7500000
- (۳) 9600000
- (۴) 15000000

۱۳۳- ضریب محور معادل $8/2$ تن برای وسیله نقلیه از نوع وانت برای عدد ضخامت روسازی ($SN = 3$) و شاخص خدمت‌دهی نهایی برابر $2/5$ چقدر است؟

ضرایب بار هم ارزی (EALF) برای محور منفرد $8/2$ تن و $P_f = 2/5$

عدد ضخامت روسازی (SN)						بار محوری (تن)
۶	۵	۴	۳	۲	۱	
۰/۰۰۰۰۳۸	۰/۰۰۰۰۳۸	۰/۰۰۰۰۴۸	۰/۰۰۰۰۶۷	۰/۰۰۰۰۷۶	۰/۰۰۰۰۶۶	۱
۰/۰۰۰۲۴۳	۰/۰۰۰۳۶۴	۰/۰۰۰۵۰۵	۰/۰۰۰۶۶۶	۰/۰۰۰۶۶۶	۰/۰۰۰۴۶۴	۲
۰/۰۰۱۵۷	۰/۰۰۱۷۳۸	۰/۰۰۲۱۶	۰/۰۰۲۷۴	۰/۰۰۲۶۲	۰/۰۰۱۷۴	۳

وزن کل (تن)	محور عقب		محور جلو		آرایش محورها	تعداد محور	نوع وسیله نقلیه
	وزن (تن)	نوع	وزن (تن)	نوع			
۲	۱	ساده	۱	ساده		۲	سواری
۳	۲	ساده	۱	ساده		۲	وانت
۶	۳	ساده	۳	ساده		۲	مینی‌بوس

(۲) 0.00233

(۴) ۳

(۱) 0.00666

(۳) 0.0273

۱۳۴- در یک متر مکعب آسفالت، مقدار ۱۹۰۰ کیلوگرم سنگدانه و ۱۰۰ کیلوگرم قیر وجود دارد. اگر وزن قیر جذب شده ۲۰ کیلوگرم باشد، درصد قیر مؤثر چقدر است؟

۱ (۱)

۴ (۲)

۸/۱ (۳)

۲۰ (۴)

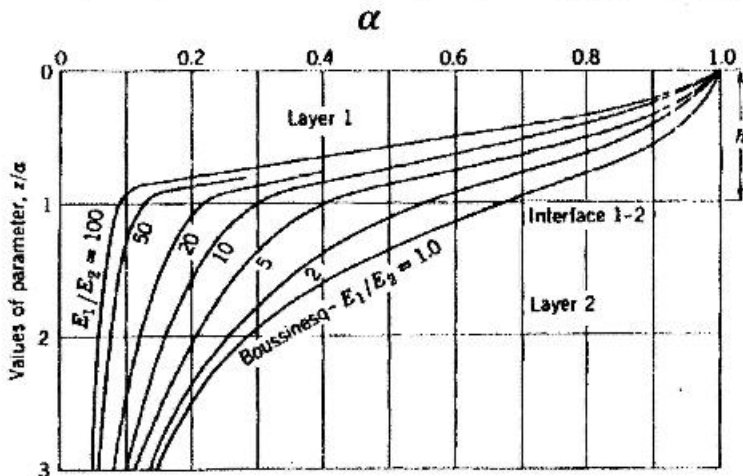
۱۳۵- بار چرخ ۳۱۴۰ کیلوگرم و فشار سطح تماس ۱۰ کیلوگرم بر سانتی‌متر مربع بر روی روسازی دولایه وارد می‌شود که ضخامت لایه فوقانی ۱۰ سانتی‌متر، مدول الاستیسیته لایه فوقانی ۵۰۰۰۰ کیلوگرم بر سانتی‌متر مربع و مدول الاستیسیته خاک بستر ۵۰۰۰ کیلوگرم بر سانتی‌متر مربع است. تنش قائم ماکزیمم فشاری چند کیلوگرم بر سانتی‌متر مربع است؟ (نمودار منحنی تأثیر بر سیستم برای محاسبه تنش قائم داده شده است. $\sigma_z = \alpha \cdot p$)

۱/۵ (۱)

۲/۵ (۲)

۳/۰ (۳)

۷/۰ (۴)



به اطلاع می‌رساند، کلید اولیه سوالات که در این سایت قرار گرفته است، غیر قابل استناد است و پس از دریافت نظرات داوطلبان و صاحب نظران کلید نهایی سوالات تهیه و بر اساس آن کارنامه داوطلبان استخراج خواهد شد. در صورت تمایل می‌توانید حداکثر تا تاریخ 1399/05/22 با مراجعه به سامانه پاسخگویی اینترنتی (request.sanjesh.org) نسبت به تکمیل فرم "اعتراض به کلید سوالات"/"آزمون کارشناسی ارشد سال 1399" اقدام نمایید. لازم به ذکر است نظرات داوطلبان فقط تا تاریخ مذکور و از طریق فرم ذکر شده دریافت خواهد شد و به موارد ارسالی از طریق دیگر (نامه مکتوب یا فرم عمومی در سامانه پاسخگویی و ...) یا پس از تاریخ اعلام شده رسیدگی نخواهد شد.



گروه امتحانی		نوع دفترچه		عنوان دفترچه	
فنی و مهندسی		B		مجموعه مهندسی عمران	
شماره سوال	گزینه صحیح	شماره سوال	گزینه صحیح	شماره سوال	گزینه صحیح
1	2	31	4	61	2
2	4	32	4	62	3
3	2	33	3	63	1
4	3	34	1	64	2
5	1	35	1	65	2
6	1	36	3	66	1
7	3	37	1	67	2
8	4	38	4	68	3
9	2	39	1	69	2
10	4	40	3	70	3
11	1	41	1	71	1
12	4	42	3	72	1
13	3	43	2	73	3
14	2	44	4	74	1
15	1	45	3	75	3
16	4	46	1	76	2
17	1	47	4	77	4
18	2	48	2	78	3
19	3	49	3	79	1
20	1	50	2	80	1
21	4	51	4	81	4
22	2	52	3	82	1
23	3	53	3	83	4
24	4	54	1	84	3
25	1	55	1	85	2
26	3	56	2	86	2
27	4	57	3	87	3
28	3	58	4	88	4
29	2	59	1	89	4
30	2	60	3	90	1
شماره سوال	گزینه صحیح	شماره سوال	گزینه صحیح	شماره سوال	گزینه صحیح
181	سفید	211	سفید	241	سفید
182	سفید	212	سفید	242	سفید
183	سفید	213	سفید	243	سفید
184	سفید	214	سفید	244	سفید
185	سفید	215	سفید	245	سفید
186	سفید	216	سفید	246	سفید
187	سفید	217	سفید	247	سفید
188	سفید	218	سفید	248	سفید
189	سفید	219	سفید	249	سفید
190	سفید	220	سفید	250	سفید
191	سفید	221	سفید	251	سفید
192	سفید	222	سفید	252	سفید
193	سفید	223	سفید	253	سفید
194	سفید	224	سفید	254	سفید
195	سفید	225	سفید	255	سفید
196	سفید	226	سفید	256	سفید
197	سفید	227	سفید	257	سفید
198	سفید	228	سفید	258	سفید
199	سفید	229	سفید	259	سفید
200	سفید	230	سفید	260	سفید
201	سفید	231	سفید	261	سفید
202	سفید	232	سفید	262	سفید
203	سفید	233	سفید	263	سفید
204	سفید	234	سفید	264	سفید
205	سفید	235	سفید	265	سفید
206	سفید	236	سفید	266	سفید
207	سفید	237	سفید	267	سفید
208	سفید	238	سفید	268	سفید
209	سفید	239	سفید	269	سفید
210	سفید	240	سفید	270	سفید
شماره سوال	گزینه صحیح	شماره سوال	گزینه صحیح	شماره سوال	گزینه صحیح
121	1	151	سفید	181	سفید
122	2	152	سفید	182	سفید
123	1	153	سفید	183	سفید
124	3	154	سفید	184	سفید
125	3	155	سفید	185	سفید
126	4	156	سفید	186	سفید
127	3	157	سفید	187	سفید
128	1	158	سفید	188	سفید
129	3	159	سفید	189	سفید
130	1	160	سفید	190	سفید
131	1	161	سفید	191	سفید
132	3	162	سفید	192	سفید
133	2	163	سفید	193	سفید
134	2	164	سفید	194	سفید
135	3	165	سفید	195	سفید
136	سفید	166	سفید	196	سفید
137	سفید	167	سفید	197	سفید
138	سفید	168	سفید	198	سفید
139	سفید	169	سفید	199	سفید
140	سفید	170	سفید	200	سفید
141	سفید	171	سفید	201	سفید
142	سفید	172	سفید	202	سفید
143	سفید	173	سفید	203	سفید
144	سفید	174	سفید	204	سفید
145	سفید	175	سفید	205	سفید
146	سفید	176	سفید	206	سفید
147	سفید	177	سفید	207	سفید
148	سفید	178	سفید	208	سفید
149	سفید	179	سفید	209	سفید
150	سفید	180	سفید	210	سفید
271	سفید	301	سفید	301	سفید
272	سفید	302	سفید	302	سفید
273	سفید	303	سفید	303	سفید
274	سفید	304	سفید	304	سفید
275	سفید	305	سفید	305	سفید
276	سفید	306	سفید	306	سفید
277	سفید	307	سفید	307	سفید
278	سفید	308	سفید	308	سفید
279	سفید	309	سفید	309	سفید
280	سفید	310	سفید	310	سفید
281	سفید	311	سفید	311	سفید
282	سفید	312	سفید	312	سفید
283	سفید	313	سفید	313	سفید
284	سفید	314	سفید	314	سفید
285	سفید	315	سفید	315	سفید
286	سفید	316	سفید	316	سفید
287	سفید	317	سفید	317	سفید
288	سفید	318	سفید	318	سفید
289	سفید	319	سفید	319	سفید
290	سفید	320	سفید	320	سفید
291	سفید				
292	سفید				
293	سفید				
294	سفید				
295	سفید				
296	سفید				
297	سفید				
298	سفید				
299	سفید				
300	سفید				