



قدم به قدم، همراه دانشجو...

WWW.GhadamYar.Com

جامع ترین و به روزترین پرتال دانشجویی کشور (پرتال دانش)  
با ارائه خدمات رایگان، تحصیلی، آموزشی، رفاهی، شغلی و...  
برای دانشجویان

- ۱) راهنمای ارتقاء تحصیلی. (کاردانی به کارشناسی، کارشناسی به ارشد و ارشد به دکتری)
- ۲) ارائه سوالات کنکور مقاطع مختلف سالهای گذشته، همراه پاسخ، به صورت رایگان
- ۳) معرفی روش های مقاله و پایان نامه نویسی و ارائه پکیج های آموزشی مربوطه
- ۴) معرفی منابع و کتب مرتبط با کنکورهای تحصیلی (کاردانی تا دکتری)
- ۵) معرفی آموزشگاه ها و مراکز مشاوره تحصیلی معتبر
- ۶) ارائه جزوات و منابع رایگان مرتبط با رشته های تحصیلی
- ۷) راهنمای آزمون های حقوقی به همراه دفترچه سوالات سالهای گذشته (رایگان)
- ۸) راهنمای آزمون های نظام مهندسی به همراه دفترچه سوالات سالهای گذشته (رایگان)
- ۹) آخرین اخبار دانشجویی، در همه مقاطع، از خبرگزاری های پربازدید
- ۱۰) معرفی مراکز ورزشی، تفریحی و فروشگاه های دارای تخفیف دانشجویی
- ۱۱) معرفی همایش ها، کنفرانس ها و نمایشگاه های ویژه دانشجویی
- ۱۲) ارائه اطلاعات مربوط به بورسیه و تحصیل در خارج و معرفی شرکت های معتبر مربوطه
- ۱۳) معرفی مسائل و قوانین مربوط به سربازی، معافیت تحصیلی و امریه
- ۱۴) ارائه خدمات خاص ویژه دانشجویان خارجی
- ۱۵) معرفی انواع بیمه های دانشجویی دارای تخفیف
- ۱۶) صفحه ویژه نقل و انتقالات دانشجویی
- ۱۷) صفحه ویژه ارائه شغل های پاره وقت، اخبار استخدامی
- ۱۸) معرفی خوابگاه های دانشجویی معتبر
- ۱۹) دانلود رایگان نرم افزار و اپلیکیشن های تخصصی و...
- ۲۰) ارائه راهکارهای کارآفرینی، استارت آپ و...
- ۲۱) معرفی مراکز تایپ، ترجمه، پرینت، صحافی و ... به صورت آنلاین
- ۲۲) راهنمای خرید آنلاین ارزی و معرفی شرکت های مطرح
- ۲۳) .....



WWW.GhadamYar.Ir

WWW.PortaleDanesh.com

WWW.GhadamYar.Org

۰۹۱۲ ۳۰ ۹۰ ۱۰۸

باما همراه باشید...

۰۹۱۲ ۰۹ ۰۳ ۸۰۱

www.GhadamYar.com

41.



Şekil (a)  
Figure (a)

Şekil (b)  
Figure (b)

Bir işçi dikdörtgen şeklindeki bir levhayı Şekil (a) daki gibi dört eşit parçaya testere ile 12 dakikada bölmektedir. Bu işçi aynı levhayı Şekil (b) deki gibi 5 eşit parçaya kaç dakikada böler?

*A worker cuts a rectangle plate into 4 equal pieces as in Figure a with a saw in 12 minutes. How many minutes does it take for the same worker to cut the same plate into 5 equal pieces as in Figure b?*

يقوم عامل بتقسيم مستطيل وفقاً للشكل (a) إلى أربعة أقسام متساوية في مدة تستغرق 12 دقيقة. في كم دقيقة يقسم هذا العامل اللوحة وفقاً للشكل (b) إلى خمسة أقسام متساوية؟

A) 12 B) 15 C) 16 D) 18 E) 20

42. MHGRSYMHGRSYMHGRSY... harf dizisinde 142.harf aşağıdakilerden hangisidir?

*What letter is the 142<sup>nd</sup> in the following combination of letters:*

**MHGRSYMHGRSYMHGRSY...**

ما هو الحرف الذي يصادف ترتيبه 142 في السلسلة بالأسفل؟

A) M B) H C) G D) R E) S

43. Saat 10:15'te akrep ile yelkovan arasındaki küçük açı kaç derecedir?

*What is the degree of acute angle between the hour and minute hands of the clock at 10:15?*

ما هي قيمة الزاوية الصغيرة التي بين عقرب الدقائق و عقرب الساعات عند الساعة 10:15؟

A) 141,5<sup>0</sup> B) 142,5<sup>0</sup> C) 150<sup>0</sup>  
D) 156,5<sup>0</sup> E) 157,5<sup>0</sup>

44.

8	7	5	9
6	9	0	x
7	8	5	6
2	2	1	3

x=?

- A)5 B)6 C)7 D)8 E)9

45.

3	8	6	2
7	5	3	4
4	2	x	6
5	4	3	7

x yerine aşağıdaki sayılardan hangisi gelmelidir?

Which of the following numbers should replace x?

ما هو الرقم المناسب بدلاً من x في الأسفل؟

- A)4 B)5 C)6 D)7 E)8

46.

	a	b	c
+			
a		c-8	
b			
c	b+2		

x	a	b	c
a			
b			
c		-6	

Yukarıda toplama ve çarpma işlemleri ile tanımlanan tablolarda a, b, c harfleri birer sayıya karşılık gelmektedir. Buna göre  $b^2 + c^2$  kaçtır?

The tables above define addition and multiplication, where a, b, c letters refer to a unique number. Then,  $b^2 + c^2 = ?$

ترمز كل من الأحرف a, b, c لرقم في الجداول المعرفة بعمليات الجمع و الضرب في الأعلى. ما هي قيمة  $b^2 + c^2$  حسب هذه المعلومات؟

- A)13 B)19 C)25 D)31 E)37

47.

$a^b$			$b^a$
	a	b	
$a+b$			$a.b$

şeklinde tanımlı işlemlere göre aşağıdaki tablo veriliyor.

*The following table is given based on the defined operations above.*

وفقاً للعمليات المحددة في الشكل الذي يعطيها هذا الجدول في الأسفل

x			y
	2	3	
w			z

Buna göre

**Then**

وفقاً لذلك

$$\frac{x+y}{w-z} = ?$$

A)17 B)-17 C)71 D)-71 E)-7

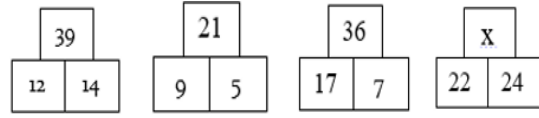
48.

- I. 243---→ 20  
 II. 832--→ 30  
 III. 545---→ 40  
 IV. 446 --→ 40  
 V. 353 --→ x

x=?

A)20 B)30 C)40 D)50 E)60

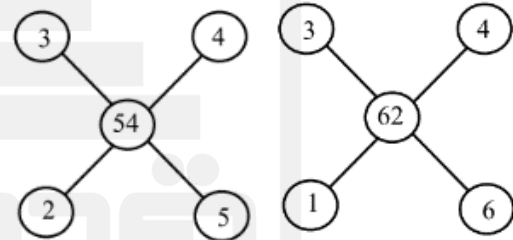
49.



x=?

A)15 B)46 C)52 D)66 E)69

50.



x=?

A)1 B)2 C)3 D)4 E)5

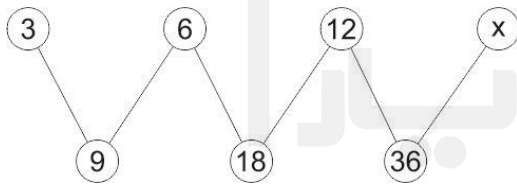
51. 3,5,11,29,83,245,x,... dizisinde  $x=?$

If 3, 5, 11, 29, 83, 245, x, ...  
Then  $x=?$

ما هي قيمة  $x$  في هذه السلسلة 3,5,11,29,83,245,x,... ؟

A)549 B)552 C)684 D)731 E)773

52.



$x=?$

A)24 B) 27 C) 30 D) 33 E) 72

53. Dijital bir göstergede rakamları göstermek için kullanılan çizgi sayısı aşağıdaki tabloda verilmiştir.

Rakam	0	1	2	3	4	5	6	7	8	9
Çizgi sayısı	6	2	5	5	4	5	6	3	7	6

12 çizgi kullanılarak oluşturulabilecek rakamları farklı en büyük 3 basamaklı sayı aşağıdakilerden hangisidir?

Following table shows the number of lines to show the digits on a digital indicator.

Digits	0	1	2	3	4	5	6	7	8	9
Number of lines	6	2	5	5	4	5	6	3	7	6

What is the biggest 3-digit number with different digits formed using 12 lines?

قد تم عدد الخطوط التي استخدمت لإظهار الأرقام في المؤشر الرقمي في الجدول التالي.

الرقم	0	1	2	3	4	5	6	7	8	9
عدد الخطوط	6	2	5	5	4	5	6	3	7	6

ما هو أكبر رقم ثلاثي مختلف الأعداد الممكن تشكيله باستخدام اثني عشر خطاً من التالي؟

A)641 B)782 C) 872 D) 941 E)981

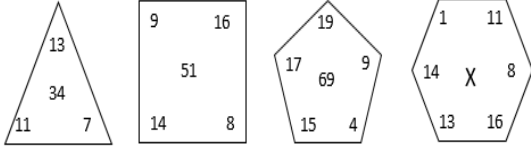
54.

8	4	11	7	14	10	X	Y
---	---	----	---	----	----	---	---

$X-Y=?$

A)3 B)4 C)5 D)6 E)7

55.



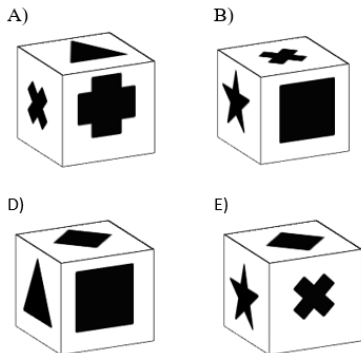

X=?

A)42 B)69 C)72 D)73 E)84

56. Aşağıdaki şeklin katlanmasıyla oluşabilecek küp hangisidir?

*Which cube is the folded form of the following shape?*

أي مكعب يحتمل أن يتشكل بعد طي الشكل الموجود في الأسفل؟



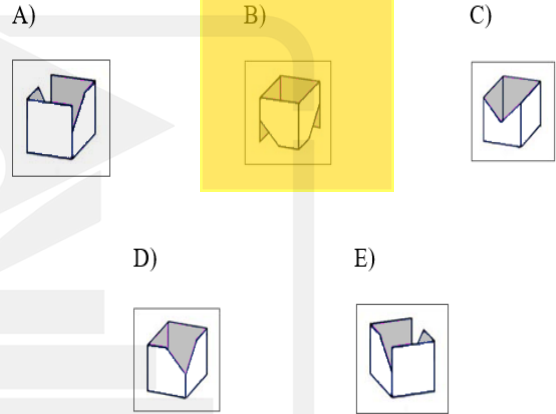
57.



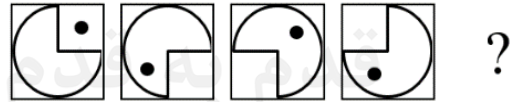
Yukarıdaki şekil katlandığında aşağıdakilerden hangisi elde edilir?

*Which of the following is the folded form of the shape above?*

أي شكل سنحصل عليه بعد طي الشكل الموجود في الأعلى؟



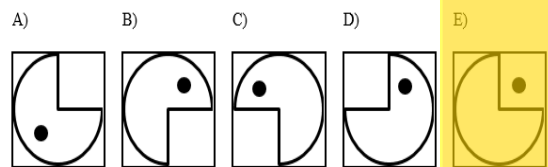
58.



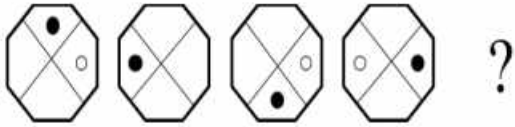
Yukarıda soru işaretinin yerine aşağıdakilerden hangisi gelmelidir?

*Which of the following should replace question mark (?) in the pattern above?*

ما الذي ينبغي أن نضعه بدلاً من علامة الاسئ الأعلى؟



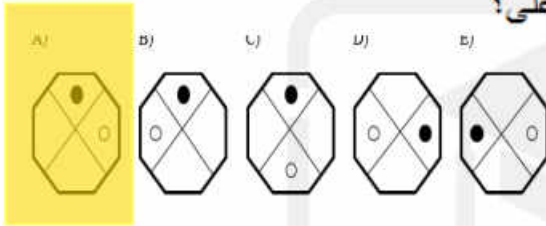
59.



Yukarıda soru işaretinin yerine aşağıdakilerden hangisi gelmelidir?

Which of the following should replace question mark (?) in the pattern above?

ما الذي ينبغي أن نضعه بدلاً من علامة الاستفهام في الأعلى؟



60.

$$\triangle 2 = 6$$

$$\triangle 3 = 9$$

$$\square 8 = 2$$

$$\square 12 = 3$$

$$\Rightarrow \triangle 1 + \square 4 = ?$$

A)4 B)5 C)6 D)7 E)8

61.

$$\bigcirc - \diamond = 1$$

$$\bigcirc + \diamond = 3 \Rightarrow \bigcirc \div \diamond = ?$$

A)  $\bigcirc \times \bigcirc$

B)  $\bigcirc \times \diamond$

C)  $\diamond \div \bigcirc$

D)  $\bigcirc + \bigcirc$

E)  $\diamond \times \diamond$

62.

$$\left. \begin{array}{l} \text{I} \\ 1234 \\ 1347 \\ 2579 \\ 2489 \end{array} \right\} \left\{ \begin{array}{l} \text{II} \\ \otimes \Phi \Omega \square \\ \oplus \Omega \nabla \Delta \\ \otimes \oplus \Phi \Omega \\ \oplus \ominus \square \Delta \end{array} \right. \text{ ise } 1975 = ?$$

A)  $\otimes \Delta \square \ominus$

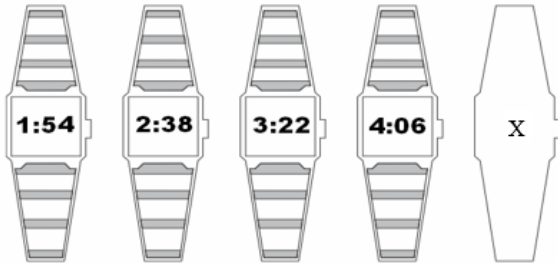
B)  $\otimes \square \Delta \ominus$

C)  $\ominus \otimes \Delta \square$

D)  $\Phi \Omega \otimes \oplus$

E)  $\Phi \Omega \oplus \otimes$


63.



X=?

- A) 4:50 B) 5:00 C) 5:08  
D) 5:10 E) 5:13

64.



Yukarıdaki şekiller arasında bir ilişki vardır. Buna göre ? yerine hangi şekil gelmelidir?

*Which of the following shape should replace question mark (?) in the pattern above?*

هناك علاقة بين الأشكال أعلاه. وفقاً لذلك أي شكل يجب أن نضعه بدلاً من علامة الاستفهام؟

- A) B)  $\Sigma 8$  C)   
D)  $\Sigma 8$  E)  $\Sigma\infty$

65.

I	II
KAT	417
TAY	814
TAM	715
YAL	419

I. Gruptaki her bir kelime, II. gruptaki ile sayılarla eşleştirilirse MALATYA kelimesine karşılık gelen aşağıdakilerden hangisidir?.

*The letters in group I. match with numbers in group II. Then what is the combination of numbers that matches the word MALATYA?*

رقماً في المجموعة II إذا كان تقابل كل كلمة في المجموعة I، فأأي رقم يقابل كلمة MALATYA؟

- A) 9151471 B) 5191471  
C) 7151941 D) 9171451  
E) 7141591

66.

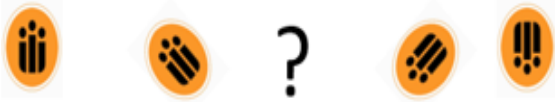
KUTU	9174	5152
TAKI	1594	
ALTI	7393	2581
LALE		
ELMA		

KATILIM=?

- A) 7154948 B) 7194548 C) 9174845  
D) 7394548 E) 9173538



67.



Yukarıdaki şemaya göre ? yerine aşağıdakilerden hangisi gelmelidir?

*Which of the following should replace question mark (?) in the pattern above?*

وفقاً للشكل أعلاه، أي شكل مما يلي يجب أن نضعه بدلاً من علامة الاستفهام؟

A)



B)



C)



D)



E)



68.

2	5	→	25
3	3	→	27
3	4	→	64
6	1	→	1
6	2	→	x

x yerine aşağıdaki sayılardan hangisi gelmelidir?

*Which of the following should replace x in the pattern above?*

أي رقم مما يلي يجب أن نضعه بدلاً من x؟

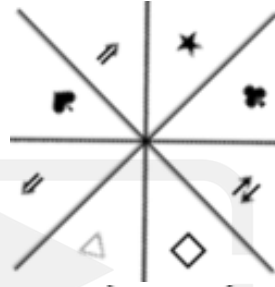
A) 2 B) 12 C) 36 D) 64 E) 128

69. Aşağıdaki şekillerden hangisi farklıdır?

*Which of the following shapes is different?*

أي شكل مما يلي هو المختلف؟

A)



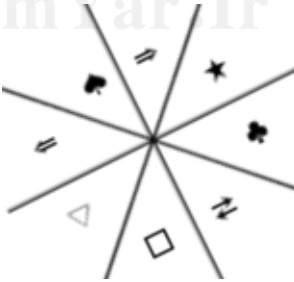
B)



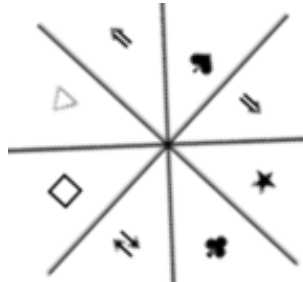
C)



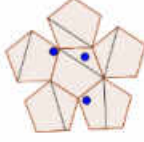
D)



E)



70.

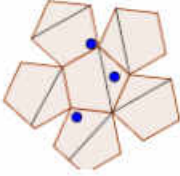


Yukarıdaki şeklin saatin tersi yönde  $45^\circ$  derece döndürülmüş hali aşağıdakilerden hangisidir?

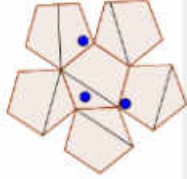
*Which of the following is the shape above rotated by  $45^\circ$  degrees counterclockwise?*

أي شكل سنحصل عليه عند تدوير الشكل في الأعلى  $45^\circ$  عكس عقارب الساعة؟

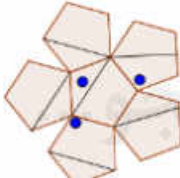
A)



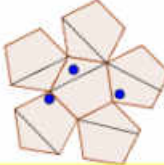
B)



C)



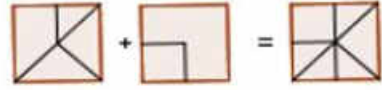
D)



E)



71.

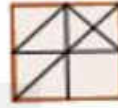


Soru işareti yerine aşağıdakilerden hangisi gelmelidir?

*Which of the following should replace question mark (?) in the pattern above?*

أي شكل مما يلي يجب أن نضعه بدلاً من علامة الاستفهام؟

A)



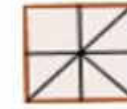
B)



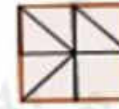
C)



D)



E)



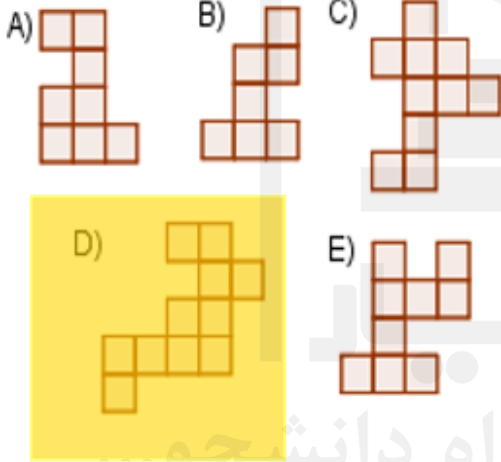
72.



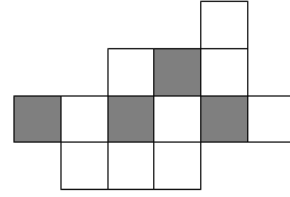
Yukarıdaki şeklin içinde aşağıdaki şekillerden hangisi yoktur?

*Which of the following does not fit into the shape above?*

أي من الأشكال التالية غير موجود في الشكل الأعلى؟



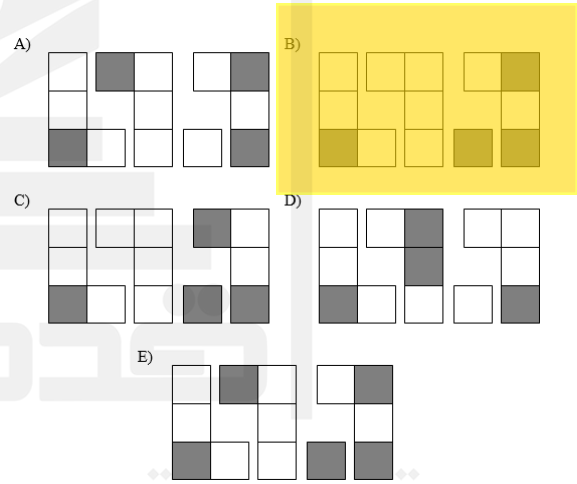
73.




Yukarıdaki şekil aşağıdaki gruptan hangisi ile elde edilebilir?

*Which of the following groups of blocks are used to build the shape above?*

أي مجموعة من الأشكال التالية تعطينا الشكل الموضح في الأعلى؟




74.



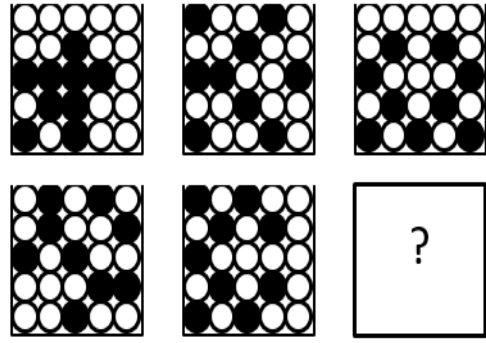
Yukarıda soru işaretinin yerine aşağıdakilerden hangisi gelmelidir?

*Which of the following should replace question mark (?) in the pattern above?*

أي من الأشكال التالية يجب أن نضعه بدلاً من إشارة الإستفهام في الأعلى؟



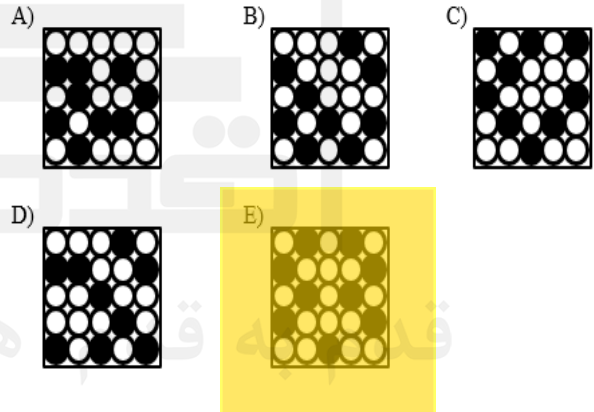
75.



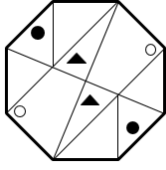
Soru işaretinin yerine aşağıdakilerden hangisi gelmelidir?

*Which of the following should replace question mark (?) in the pattern above?*

أي من الأشكال التالية يجب أن نضعه بدلاً من إشارة الإستفهام؟



76.



Yukarıdaki şekil saat yönünde 270 derece döndürülürse aşağıdakilerden hangisi elde edilir?

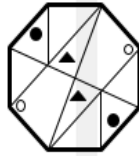
*Which of the following is the shape above rotated by 270° degrees clockwise?*

أي شكل سنحصل عليه عند تدوير الشكل في الأعلى 270° مع عقارب الساعة؟

A)



B)



C)



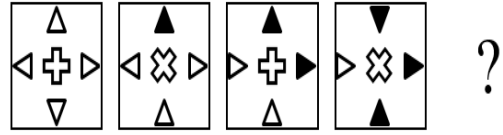
D)



E)



77.

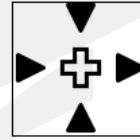


Soru işareti yerine aşağıdakilerden hangisi gelmelidir?


*Which of the following should replace question mark (?) in the pattern above?*

أي مما يلي يجب أن نضعه بدلاً من إشارة الإستفهام؟


A)



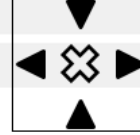
B)



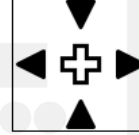
C)



D)



E)



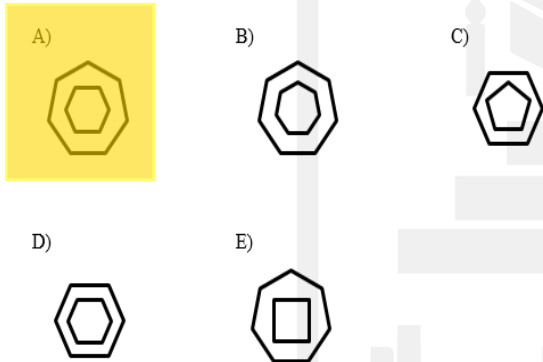
78.



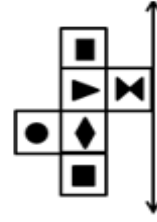
Yukarıdaki soru işareti yerine hangi şekil gelmelidir?

**Which of the following should replace question mark (?) in the pattern above?**

أي شكل مما يلي يجب أن نضعه بدلاً من إشارة الإستفهام؟



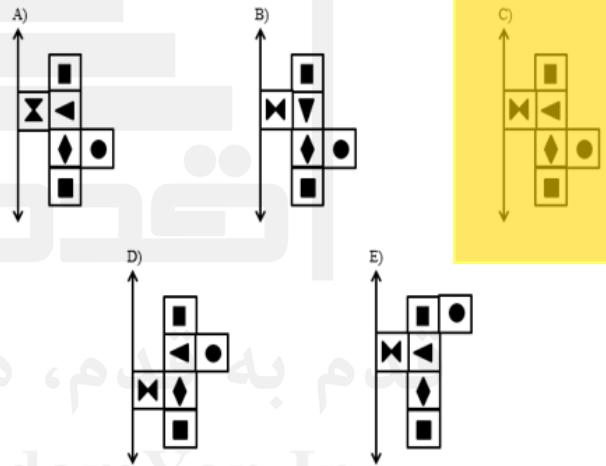
79.



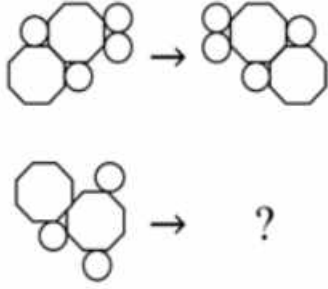
Yukarıdaki şeklin verilen eksene göre simetriği aşağıdakilerden hangisidir?

**Which of the following is the symmetrical display of the shape above in the given direction?**

أي شكل مما يلي هو المناظر للشكل الأعلى وفقاً للمحور المحدد؟



80.



Soru işaretinin yerine aşağıdaki şekillerden hangisi gelmelidir?

*Which of the following should replace question mark (?) in the pattern above?*

أي شكل مما يلي يجب أن نضعه بدلاً من إشارة الإستفهام؟

