



قدم به قدم، همراه دانشجو...

WWW.GhadamYar.Com

جامع ترین و به روزترین پرتال دانشجویی کشور (پرتال دانش)  
با ارائه خدمات رایگان، تحصیلی، آموزشی، رفاهی، شغلی و...  
برای دانشجویان

- (۱) راهنمای ارتقاء تحصیلی. (کاردانی به کارشناسی، کارشناسی به ارشد و ارشد به دکتری)
- (۲) ارائه سوالات کنکور مقاطع مختلف سالهای گذشته، همراه پاسخ، به صورت رایگان
- (۳) معرفی روش های مقاله و پایان نامه نویسی و ارائه پکیج های آموزشی مربوطه
- (۴) معرفی منابع و کتب مرتبط با کنکورهای تحصیلی (کاردانی تا دکتری)
- (۵) معرفی آموزشگاه ها و مراکز مشاوره تحصیلی معتبر
- (۶) ارائه جزوات و منابع رایگان مرتبط با رشته های تحصیلی
- (۷) راهنمای آزمون های حقوقی به همراه دفترچه سوالات سالهای گذشته (رایگان)
- (۸) راهنمای آزمون های نظام مهندسی به همراه دفترچه سوالات سالهای گذشته (رایگان)
- (۹) آخرین اخبار دانشجویی، در همه مقاطع، از خبرگزاری های پربازدید
- (۱۰) معرفی مراکز ورزشی، تفریحی و فروشگاه های دارای تخفیف دانشجویی
- (۱۱) معرفی همایش ها، کنفرانس ها و نمایشگاه های ویژه دانشجویی
- (۱۲) ارائه اطلاعات مربوط به بورسیه و تحصیل در خارج و معرفی شرکت های معتبر مربوطه
- (۱۳) معرفی مسائل و قوانین مربوط به سربازی، معافیت تحصیلی و امریه
- (۱۴) ارائه خدمات خاص ویژه دانشجویان خارجی
- (۱۵) معرفی انواع بیمه های دانشجویی دارای تخفیف
- (۱۶) صفحه ویژه نقل و انتقالات دانشجویی
- (۱۷) صفحه ویژه ارائه شغل های پاره وقت، اخبار استخدامی
- (۱۸) معرفی خوابگاه های دانشجویی معتبر
- (۱۹) دانلود رایگان نرم افزار و اپلیکیشن های تخصصی و...
- (۲۰) ارائه راهکارهای کارآفرینی، استارت آپ و...
- (۲۱) معرفی مراکز تایپ، ترجمه، پرینت، صحافی و ... به صورت آنلاین
- (۲۲) راهنمای خرید آنلاین ارزی و معرفی شرکت های مطرح
- (۲۳) .....



WWW.GhadamYar.Ir

WWW.PortaleDanesh.com

WWW.GhadamYar.Org

۰۹۱۲ ۳۰ ۹۰ ۱۰۸

باما همراه باشید...

۰۹۱۲ ۰۹ ۰۳ ۸۰۱

www.GhadamYar.com

ببرین



کانون کارشناسان رسمی دادگستری  
« استان تهران »

( ۱۰ )  
سؤالات تشریحی و سائط تعلیمه دریائی

مخفف های زیر معروف چه کلماتی است. ( ۶ نمره )

ISU =

SOLAS =

ISOA =

NMC =

IALA =

GRT =



قدم به قدم، همراه دانشجو...

WWW.GhadamYar.Ir

شماره  
تاریخ ۱۱/۴/۷۳

بیوست



توان کارشناسان رسمی دادگستری  
« استان تهران »

( ۲ )

سؤال تستی


قوانین راه ( سه سؤال ۲ نمره )

شماره  
تاریخ  
بیوست


سؤال ۱- علامت زیر پوشیده گشتی در دریای من داده شده است.

الف - شناور مشغول انجام حیه کاری است.

ب - در محدودت نزدیک شدن به آن لازم نیست همه اعدای پایشی انجام دهد.



سؤال ۲- چراغهای زیر نشاندهنده چه عملیاتی است.





کانون کارشناسان رسمی دادگستری

« استان تهران »

( ۳ )

شماره ...

تاریخ ...

پیوست

سؤال ۳- آیا جزایرهای شکل زیرت زنده مانن راهنا در حال حرکت است.



سؤال ۴- از کدام سمت کانال بابی برود. کانون در باره چه می گوید

قدم به قدم، همراه دانشجو...

WWW.GhadamYar.Ir







کانون کارشناسان رسمی دادگستری  
« استان تهران »

( ۴ )

شماره ...

تاریخ

پیوست

سؤال ۵ - جدولتهای همونی زیر در دیدیم چه مفهومی دارد ، سه مورد ذکر شود

→ ۰۰ (at interval of not more than 2 minutes)

سؤال ۶ - چه علامت همونی در هوای مه اکود در شرایط زیر مورد نیاز است .

الف - کستی با طول کمتر از صد متر در لنگر

ب - کستی به طول بیشتر با طول ۱۰۰ متر یا بیشتر

ج - کست در راهها در حال انجام وظیفه در لنگر

سؤال ۷ - چه مفهومی چراغهای حیجاب زنگ در شکل زیر را نشان میدهد .



○

○



شماره .....

تاریخ .....

پیوست .....

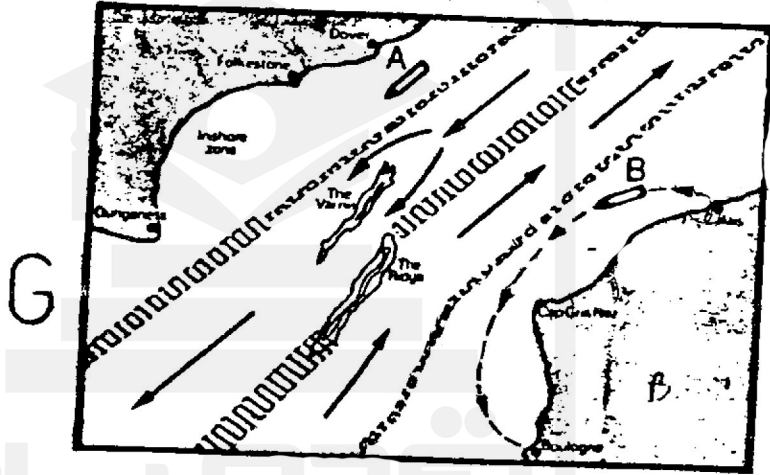
( ۵ )

کانون کارشناسان رسمی دادگستری  
« استان تهران »

Boulogne میباید، شکل G

سؤال ۸ - شناور B در حال دریانوردی از Calais به  
آیا او مسیر درستی را انتخاب نموده است.

Vessel B is proceeding from Calais to Boulogne. Is she following a proper course?

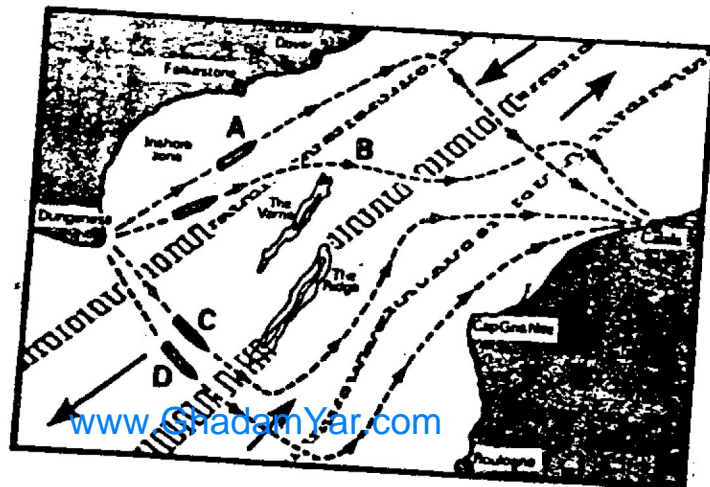


سؤال ۹ - شناوریت هدایت یک شناور از Dungeness به Calais را بر عهده دارید  
( شکل H ) چه راه مشخص گردیده است، کدام راه را انتخاب می کنید، بنویسید، چرا؟ چنانچه  
نظر خود را در مورد چهار مسیر بنویسید.

You are in charge of a vessel which is to proceed from Dungeness to Calais.

Which of the four routes shown would most nearly accord with the intentions of the Rules?

H

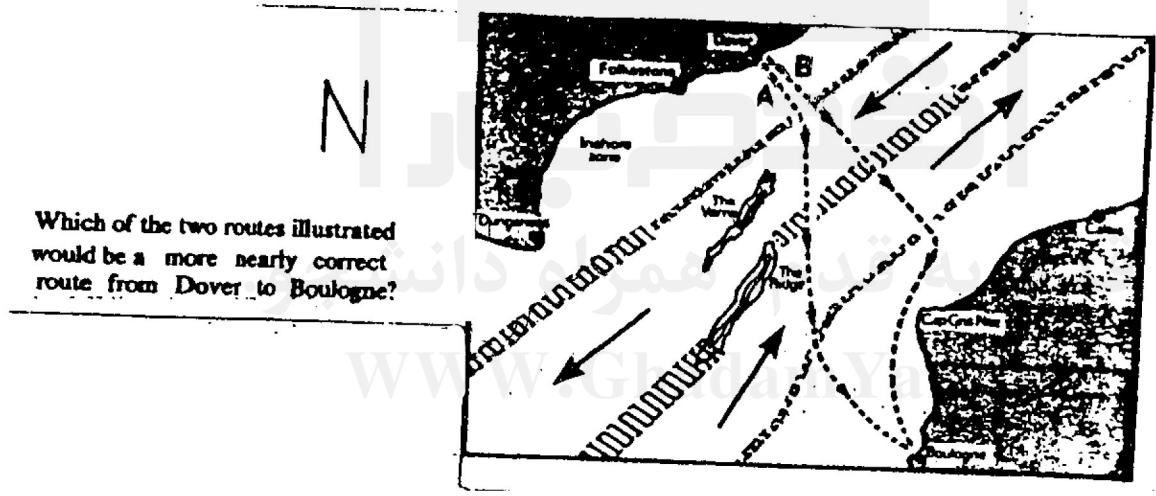




سؤال ۱۰- بصر از موقع عبور، تحت چه شرایطی شماستوانند وارد منطقه چهارشنبه ترافیکی گردید.

سؤال ۱۱- شما در دید خوب رجال دریا نوردی هستید، متوجه میشوید، دید بخت کم میگردد چه اقداماتی انجام میدهند.


سؤال ۱۲- کدامیک از دو مسیر ندره شده در شکل N از Dover به Boulogne صحیح تر است. علت را بنویسید.





( ۷ )

سؤال ۱۳- شما مسئول هدایت شناوری هستید، شکل M، که کدی از دو مسیر A و B را  
انتخاب می‌نمایند. علت را شرح دهید.



M

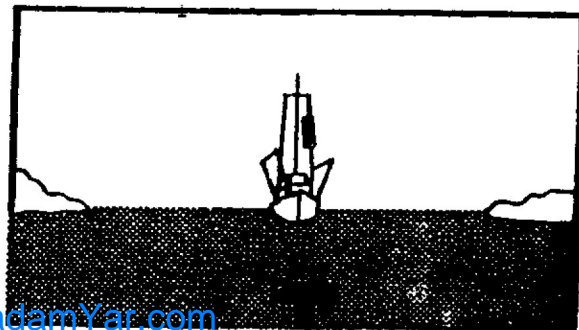
قدم به قدم، همراه دانشجو...

www.GhadamYar.com

سؤال ۱۴- الف: نشان دادن یک استوانه چه مفهومی در شکل زیر است  
ب- در هنگام مواجهه با اینگونه شناورها چه باید کرد

1 This large vessel is displaying a cylinder.  
What does it indicate?

2 What is your responsibility when approaching  
such a vessel?





شماره  
تاریخ  
پیوست




کانون کارشناسان رسمی دادگستری  
« استان تهران »

( ۸ )

سؤال ۱۵- علامتهای زیر (لفزی) چه مفهومی دارد. شکل P

What do the signals in this illustration indicate?



P

سؤال ۱۶- الف- شکل زیر دو شناور در حال عملیات تیرک کردن را نشان میدهد، دقیقاً این

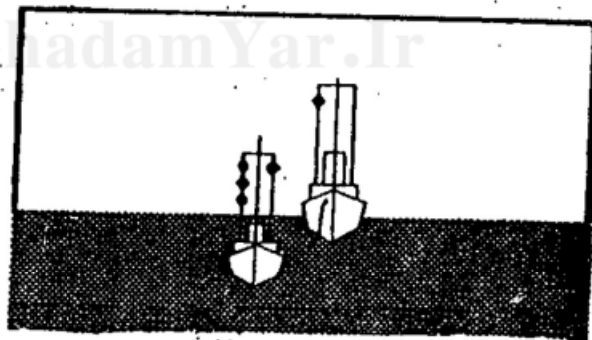
علامتها چه مفهومی را نشان میدهد؟

ب- در صورتیکه شما افسر نگهبان شناوری باشید، که در حال نزدیک شدن به آن هستید چه اقدامی

را باید انجام دهید؟

الف- This illustration shows a tow in progress. What, precisely, do the signals indicate?

ب- What is your responsibility in this situation if you are the Officer of the Watch of an approaching vessel?



q

سؤال ۱۷- اگر شما در سمت چپ سینه شناورتان صدای سینگل سه را شنوید، چه اقدامی

انجام میدهند.